

高雄市立蚵寮國民中學111學年度第二學期第三次定期評量七年級社會科試卷

版本:康軒

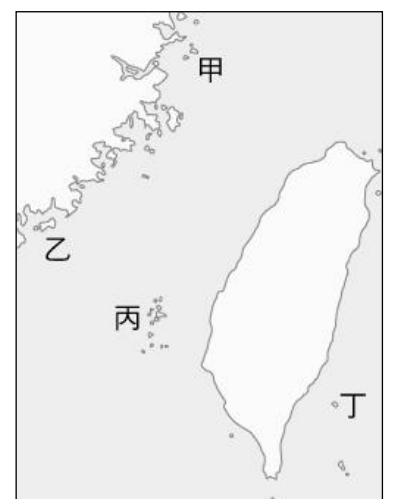
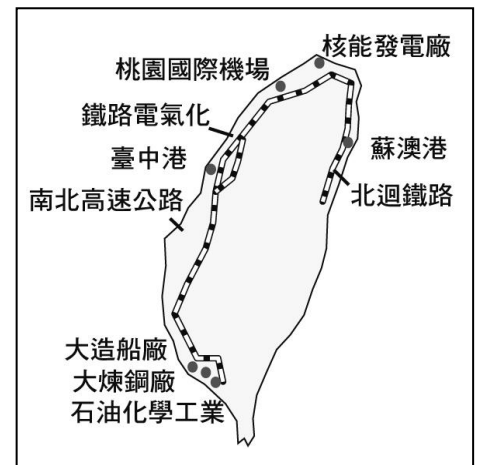
範圍(L5~L6)

七年 班 座號： 姓名：

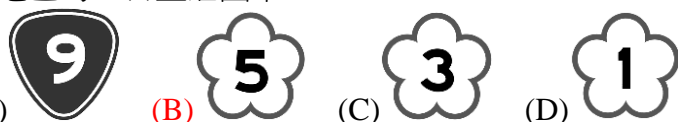
選擇50題一題2分

- () 燦爛時光書店是一間位於新北市中和區的書店，也是臺灣第一家以東南亞為主題的二手書店。請問：臺灣出現以東南亞為主題的書店意味著下列何種情形？ (A)外來文化、新住民的議題已經成為臺灣社會重要的一環 (B)政府為了拓展海外新市場，強勢主導成立東南亞主題書店 (C)東南亞已成為最多臺灣人移民的目的地 (D)東南亞是臺灣社會關注度最高的區域。
- () 右表是民國 37、38、42、52 年四個年度的臺灣佃農每年每公頃收益統計，表中的數字演變反映了政府的哪項政策？ (A)提高農會功能並興修水利 (B)實施三七五減租與耕者有其田 (C)工業臺灣，農業南洋 (D)採行農地重劃並開放國有土地。
- () 「竹風蘭雨」，是一句關於臺灣氣候的俗諺，新竹地區冬季受九降風吹襲，鄉村居民利用強風來製作柿餅，近年更發展為觀光果園，成為新竹冬季重要的觀光活動。請問：原本是第一級產業的果園，轉向觀光化的主要原因最可能為下列何者？ (A)經濟結構變化，鄉村人口大量遷往都市，果園觀光化可以創造人流與商機，活絡鄉村經濟 (B)新竹都市擴張過於快速，政府特意保留果園區，使都市居民有放鬆休閒的空間 (C)鄉村居民以觀光帶來的人潮，作為爭取交通建設的籌碼 (D)鄉村觀光化有利於消除新竹城鄉之間的差距，以爭取更多的財政預算。
- () 臺灣政府積極參與「亞太經濟合作會議」(APEC)等國際性經濟組織，是在哪個時期？ (A)民國六十年代 (B)民國七十年代 (C)民國八十年代 (D)民國九十年代。
- () 中華民國政府在民國四十、五十年代禁止民眾在公共場合使用方言，造成鄉土語言與文化的受限。請問：政府推行此一政策的主要原因為何？ (A)避免共產黨入侵 (B)去除日本殖民統治的影響 (C)政府官員聽不懂 (D)以上皆是。
- () 右圖是十大建設圖，從圖中內容可知哪方面的建設所占比例最高？ (A)軍事建設 (B)交通建設 (C)能源建設 (D)文化建設。
- () 民國六十年代，臺灣社會為追求經濟成長而付出慘痛的社會代價，臺灣內政、外交接連挫敗，知識分子重新反省政治、文化。宋澤萊的《打牛南村》描寫民國六十年代中期臺灣農村的困境。請問：這部作品屬於何種文學？ (A)反共文學 (B)美國文學 (C)鄉土文學 (D)奇幻文學。
- () 政府遷臺之初，臺海情勢岌岌可危，但後來因哪一場戰爭爆發，促使美國派兵巡弋臺灣海峽，也穩住臺海情勢？ (A)清法戰爭 (B)韓戰 (C)一次大戰 (D)二次大戰。
- () 政府為促進產業升級，在民國 69 年成立下列哪一個工業區，使不少理工科系的學生視此處為「臺灣矽谷」，莫不夢想進入此地一展長才？ (A)新竹科學工業園區 (B)南港軟體工業園區 (C)內湖科技園區 (D)南部科學園區。
- () 近年中共領導人習近平推動「一帶一路」，稱將優化營商環境、完善開放格局、擴大市場開放。與之相對應的是我國政府推動「新南向政策」。請問：政府推動新南向政策的原因，何者可能為非？ (A)避免臺灣資金過分集中於中國大陸 (B)因應中共對我國國際空間打壓，開創新空間 (C)臺灣鄰近東南亞，希望促進區域資源共享，人才交流與經貿合作等計畫 (D)與中共一帶一路合作，加速東南亞經貿昌盛，共創亞洲繁榮。
- () 隨著國際情勢的改變，我國在國際上的地位逐漸被中華人民共和國所取代，民國六十年代我國就發生了哪兩件外交挫折？ (A)加入 WTO 被拒／與美國斷交 (B)加入聯合國被拒／與美國斷交 (C)退出聯合國／與美國斷交 (D)退出聯合國／加入 WTO 被拒。
- () 中共在民國 38 年、47 年曾兩度企圖以武力進犯臺灣，但最後都因國軍奮力抵抗而未能達到目的。這兩次的戰役都發生在同一地區，此地因而以戰役史蹟聞名。請問：上述以戰役史蹟聞名的地點位於附圖中的何處？ (A)甲 (B)乙 (C)丙 (D)丁。
- () 自從民國七十年代開放探親以來，兩岸的接觸與交流更為熱絡、頻繁。然而因為對於國家認知的立場不同，兩岸關係陷入僵局。「中華人民共和國」國務院臺灣事務辦公室一再宣稱臺灣是中國領土的一部分，主張「一國兩制」。請問：與國臺辦相對應的我國官方機構為何？ (A)海峽交流基金會 (B)海峽兩岸關係協會 (C)行政院大陸事務辦公室 (D)行政院大陸委員會。
- () 我國與美國斷交對臺灣人民的信心打擊相當大，但臺灣仍屹立不搖。此後，海峽兩岸的關係也產生了何種變化？ (A)中共以強大武力炮轟金門 (B)中共對臺改採和平統戰策略 (C)中共對臺提出「三不政策」 (D)中華人民共和國加入聯合國。
- () 在現今的臺灣社會中，我們會在電視新聞中看見許多社會運動，網路上也會有遊行活動的宣傳，例如：廢核大遊行、同志大遊行、爭取體育改革等。請問：現代社會運動蓬勃發展的原因，與下列何者最為相關？ (A)政府解除戒嚴 (B)我國退出聯合國 (C)政府宣布動員戡亂 (D)政府推動經濟改革。
- () 臺灣的工業由早期資本少、科技低的輕工業逐漸提升到資本多、科技高的工業，主要是因臺灣工業發展的何項優勢已逐漸消失？ (A)豐富的原料 (B)充足的動力 (C)廉價的勞工 (D)廣大的市場。

年代	佃農稻穀收益數
民國 37 年	1,947 公斤
民國 38 年	2,788 公斤
民國 42 年	3,991 公斤
民國 52 年	6,925 公斤



17. () 西元 1988 年李登輝繼任總統後，開始進入「務實外交」的階段，以經貿實力打破中華人民共和國的外交封鎖，致力發展與無邦交國家之間的實質關係。此外，亦提升與友邦間的雙邊關係，增加政府重要首長互訪，且策動邦交國每年提出「參與聯合國」提案。請問：「務實外交」與之前外交政策最大的不同點為何？ (A)積極鞏固與友邦的關係 (B)不再堅持中華民國是唯一代表中國的合法政府 (C)外交對象不限於邦交國家 (D)大量投入技術、醫療與金錢。
18. () 民國 41~109 年，臺灣的都市人口數占人口總數的比例由 29% 提升到近 80%，這種變化也呈現出臺灣社會發生下列何種轉變？ (A)社會增加大於自然增加 (B)人口移入率大於移出率 (C)出生人數大於死亡人數 (D)由農業社會轉為工商業社會。
19. () (甲)屬都市內紓解交通的方式；(乙)載客量較汽車小；(丙)與地面交通交會，故仍有塞車問題；(丁)臺北及高雄已有捷運系統通車。請問：以上有關大眾捷運系統的敘述，哪一些正確？ (A)甲乙 (B)乙丙 (C)丙丁 (D)甲丁。
20. () 臺灣哪一區域因地緣關係，受中國、臺灣兩岸「小三通」的政策影響較大？ (A)北部區域 (B)南部區域 (C)金馬地區 (D)東部區域。
21. () 某地旅遊報導指出：「這裡不只有風獅爺，還有處處林立的傳統聚落。這裡舉目皆是臺灣本島難得一見的百年古厝，閩南建築風格；燕尾式、馬鞍式的屋簷，滿據天空。」上文所指的地區應為下列何處？ (A)新竹 (B)蘭嶼 (C)臺南 (D)金門。
22. () 交通所包含的內容分為「運輸」及「通訊」兩大部分，請問：下列生活中常見的交通方式中，何者與其他三者不同？ (A)瑞洺打電話向老婆說我愛你 (B)芷萱搭乘直升機從高空鳥瞰市容 (C)威霖在家收看韓劇 (D)有定上網訂購母親節禮品。
23. () 聚落的發展受地理位置的影響相當明顯，使得部分聚落出現都市化快速的現象，形成區域差異。請問：「都市化快速」指的是都市中何種人口變化的狀況？ (A)都市人口出生率快速 (B)都市人口自然增加率快速 (C)都市人口社會增加明顯 (D)都市就業率上升。
24. () 「這個地區西、北、南三面環山，東瀕太平洋，蘭陽溪流貫平原地帶，著名的名產有鴨賞、牛舌餅等。」上文最可能是對臺灣哪一個行政區的介紹？ (A)新竹縣 (B)宜蘭縣 (C)花蓮縣 (D)南投縣。
25. () 臺灣的中部區域不包括下列哪一個縣市？ (A)嘉義縣 (B)南投縣 (C)雲林縣 (D)苗栗縣。
26. () 昔日臺灣北部地區交通主要依賴鐵路與公路，由於鐵路班次少且汽車不普及，故通勤圈僅限於臺北市與新北市(舊稱臺北縣)。然而現今交通方式多元且發達，通勤圈擴大到桃園地區，而下列哪一條道路的興建，讓宜蘭也納入北部地區的一日生活圈中？



27. () 附表是甲、乙、丙、丁四個地區的人口分布情形。其中，哪一個地區的都市化程度最高？ (A)甲 (B)乙 (C)丙 (D)丁。

(單位：萬人)

地區	甲	乙	丙	丁
都市人口	55	45	55	45
鄉村人口	35	55	45	65
總人口	90	100	100	110

28. () 「臺南沿海有大片的海埔地及許多離岸沙洲，政府於數年前提出成立『台江國家公園』的規畫案。此國家公園的成立，不僅可保育生態環境、保存重要的歷史資產，更可以利用當地昔日的傳統產業來發展具地方特色的生態旅遊，是一座兼具自然、歷史、產業三大特色的國家公園。」上文中提及當地昔日的傳統產業，最可能是指下列何者？ (A)水泥業 (B)採煤業 (C)製茶業 (D)晒鹽業。
29. () 子婷打算坐火車旅行，如果她從臺中出發，途中想在臺北停留一天，最後以屏東為目的地。若不重複搭乘，則子婷使用的鐵路幹線依序為下列何者？ (甲)臺東線(花東鐵路)(乙)西部幹線 (丙)北迴鐵路 (丁)南迴鐵路 (A)甲乙丙丁 (B)乙丙甲丁 (C)丙丁甲乙 (D)丁甲乙丙。
30. () 「□□縣核定自民國 103 年 12 月 25 日起升格為直轄市，正式成為第六都。從基本面來看，此地人口早在西元 2010 年超過 200 萬人，成長幅度更在西元 2012 年超過臺北市；目前此地將定位為『機場城市』，藉由航空城計畫向國際化城市前進。」請問：□□指的是何處？ (A)新竹 (B)桃園 (C)宜蘭 (D)苗栗。
31. () 「市」是臺灣的行政區劃單位之一，主要設置於城市地帶，在不同的時期有不同的行政層級及自治權限，現行法規中，市制分為直轄市、省轄市及縣轄市層級，均為地方自治團體，其中「桃園市」與下列何者的層級相同？ (A)新竹市 (B)嘉義市 (C)臺南市 (D)宜蘭市。
32. () 下列行政區劃中，何者層級與另三者的層級不同？ (A)屏東市 (B)基隆市 (C)嘉義市 (D)雲林縣。
33. () 下列關於臺灣「鐵路」的描述，何者錯誤？ (A)運載量小、運費高 (B)現已完成全臺的環島鐵路 (C)鐵路適應地形的能力較公路差 (D)鐵路利於長程運輸。
34. () 「它與數十個大大小小的島嶼，形成了海洋中一片島嶼群，海拔很低，幾乎沒有高山，卻有 1,740 萬年前古老的玄武岩。當地居民利用潮汐漲退，以『石滬』將魚群困於其中，是極具代表性的漁業文化。」請問：此一離島最有可能位於下列何處？ (A)澎湖群島 (B)金馬地區 (C)釣魚臺列嶼 (D)東沙群島。
35. () 關於社會變遷帶來的影響，下列何者說法並不正確？ (A)兆華：社會變遷促進社會發展，百利無一害 (B)鼎智：社會變遷可能造成不公平的現象 (C)玉婷：社會變遷可能造成城鄉差距加大 (D)佾柔：社會變遷可能促進性別平權。
36. () 下列哪位同學對公平正義的理解完全正確？ (A)正揚：只有弱勢群體才重視公平正義 (B)宏恩：公平正義是為了

- 保障原住民族 (C)子玄：公平正義強調提供弱勢者協助 (D)芸婷：公平正義強調給予受害者處罰。
37. ()帥氣幽默的公民老師請同學各自發表對「社會福利發展」的看法，下列四位同學的敘述，何者錯誤？ (A)柏鑫：中世紀時期，宗教組織施捨與救濟 (B)承佑：工業革命後，政府介入保障弱勢群體權益 (C)家誠：進入二十世紀，政府提前預防人民生活發生困難 (D)卉慈：近年來，福利社會強調由人民自立自強謀求自身權益。
38. ()苗栗縣府表示，縣內部分地區人口持續成長，為擴大優質平價的托育服務，打造符合 3 至 5 歲幼童學習環境，積極爭取教育部同意納入「校園社區化改造計畫——營造友善育兒空間」，補助在縣內國小規畫新建非營利幼兒園。上述內容應屬於哪一項社會福利政策？ (A)福利服務 (B)社會救助 (C)社區營造 (D)社會保險。
39. ()才高八斗的宏智老師帶領同學們討論某主題，同學們輪流分享看法——
雪晴：我覺得應該立法重視身障福利。
紘滄：我覺得應該立法促進性別平權。
禾佳：我覺得應該立法保障原住民族權益。
下列何者最可能為其討論的主題？ (A)社會變遷為什麼使得城鄉差距加大 (B)社會變遷對於身心障礙者的影響 (C)如何消除社會變遷帶來的不公平現象 (D)社會變遷與性別平權的關係。
40. ()教育是關係一國國力能否提升的重要關鍵，近年來臺灣在教育方面推動不少變革，引號中的敘述，何者屬於「理念」層次的變遷？ (A)提出「私立大學退場機制」 (B)全面實施「十二年國教」 (C)推行「電子書包」以減輕學童負擔 (D)家長的心態「由重視智育轉為多元發展」。
41. ()我國推動社會福利措施多年，對於人民所遭遇的各種問題，政府盡量給予相對應的協助。下列情況與對應項目，何者正確？ (A)夫妻喜獲麟兒，但是兩人都必須工作——需要托育補助 (B)國一新鮮人——需要國民年金保險制度 (C)家中貧困的國小學生——需要職業訓練 (D)臥病在床的長者——需要災害救助。
42. ()臺北市政府推出行天宮公共住宅開放聯合招租，總共釋出 17 戶，吸引 1,154 人搶租申請，經公開抽籤，中籤率僅 1.7%，創下近年臺北市公共住宅中籤率最低紀錄。政府興辦專供出租的社會住宅，落實了下列何種社會福利？ (A)社會保險 (B)社會救助 (C)社會津貼 (D)居住正義。
43. ()人們的通信方式從「飛鴿傳書」到「快馬送件」的方式傳遞；今日則強調「上午送件，下午取貨」。這和下列何種變化屬於相同的社會變遷？ (A)不打不成器→愛的教育 (B)三合院→高樓大廈 (C)聯考入學→多元入學 (D)士農工商→行行出狀元。
44. ()臺北流行音樂中心曾因身障者座位區位於屋簷下的最後一排，視野僅能看到舞臺下方，影響身障者的藝文參與權而遭監察院糾正。上述座位區的安排呈現出何種現象？ (A)公共設施未能滿足需求 (B)醫療資源分配不均 (C)族群方面的不平等 (C)女性地位未受尊重。
45. ()下列有關我國實施全民健康保險的敘述，何者錯誤？ (A)全民共同繳納保費 (B)全民共同分攤風險 (C)屬於社會福利「福利服務」項目 (D)民眾需要時能獲得適切醫療照護。
46. ()政府設立就業服務站及職業訓練中心，提供待業者各項技職課程，並協助民眾尋找工作。這是屬於下列何種社會福利政策？ (A)社會保險 (B)就業安全 (C)社會救助 (D)社會津貼。
47. ()帥鈞接拍了一部「穿越時空愛上你」的古裝劇，描述男主角遇到了來自唐代的女主角，根據下列四個對話內容，何者的對話呈現「器物層次」的社會變遷？ (A)男主角：我們用電子錶計時；女主角：我們用日晷得知時間 (B)女主角：那是張員外迎娶小妾的宴客；男主角：我們以一夫一妻為主 (C)男主角：我們的元首是由人民選出；女主角：皇帝都是由繼承而來的 (D)女主角：媽媽說男大當婚，女大當嫁；男主角：我的社會很多人選擇不婚、單身。
48. ()西元 2020 年新冠肺炎疫情重創全球，各項捐款跟著短缺，流浪貓狗及弱勢者也成為疫情下需要幫助與關懷的群體。愛智圖書公司發動義賣活動，將所得全數捐給相關公益團體，用溫柔堅定的心，邀請民眾一起加入關懷流浪貓狗與弱勢團體的行列。關於上述關懷弱勢的方式，何者正確？ (A)彌補政府在社會福利措施上的不足 (B)缺乏固定資源，無法產生具體效果 (C)調動民間資源，取代政府福利工作 (D)透過公權力解決社會的不公平現象。
49. ()下列四個人都希望盡一己之力幫助社會上的弱勢群體，其中哪個人真正展現出公平正義的精神？ (A)健瑜醫師跟隨醫療巡迴隊到山區義診 (B)子逸爬山時拍攝許多風景優美的照片 (C)沛昀律師利用閒暇時間跳韻律操鍛鍊身體 (D)廷宣老師週末到社區圖書館閱讀，充實自己。
50. ()政府應制定合宜的社會福利政策，盡力滿足人民的心理、社會和經濟等方面的需要。下列何者不屬於我國現行的社會福利政策？ (A)社會保險 (B)就業安全 (C)社會救助 (D)12 年國民教育。