

# 高雄市立蚵寮國民中學111學年度第二學期第三次定期評量八年級社會科試卷

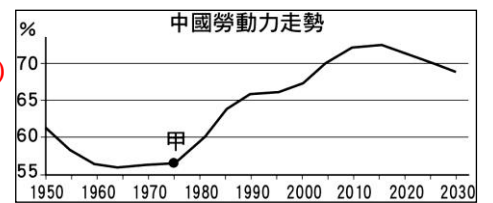
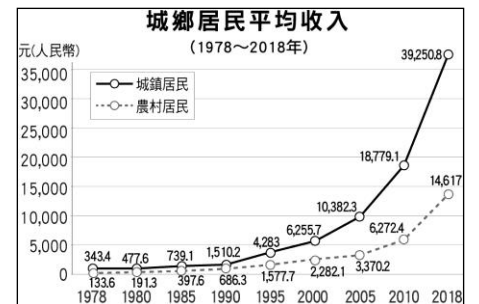
版本:康軒

範圍(L5~L6)

八年 班 座號： 姓名：

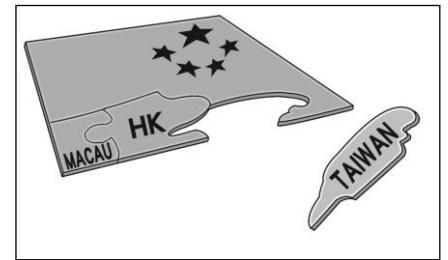
選擇50題一題2分

- ( ) 日本於二戰戰敗後一度遭某一國家占領，即便日本發展至今已是世界第三大經濟體，首都東京大半的天空仍不屬於日本政府管轄，這片天空被稱作「橫田空域」，至今仍牢牢掌握在當年占領日本的國家手中，請問該國是下列何者？ (A)美國 (B)俄羅斯 (C)中國 (D)英國。
- ( ) 他是中國的領導人之一，任內除了積極推動改革開放路線之外，也與美國建交，並且成立經濟特區；但是在政治改革卻毫無進展，因此有「六四天安門事件」的發生，打擊學生民主改革的訴求。請問：以上所述是中國哪位領導人？ (A)毛澤東 (B)鄧小平 (C)江澤民 (D)胡錦濤。
- ( ) 下圖中是中國近 30 年來的城鄉居民平均收入變化圖，試問造成圖中貧富差距漸增大與農村貧窮的原因，應該是下列哪項政策的緣故？ (A)文化大革命 (B)人民公社 (C)改革開放 (D)大躍進。
- ( ) 一九五〇年代，臺灣設立加工出口區，以「出口導向」為目標全力衝刺，造就了臺灣的經濟奇蹟。一九七〇年代，中共的「經濟特區」概念其實與臺灣的加工出口區相似，同樣促進了中國的經濟發展。請問：中共政府沒有在何處建立經濟特區？ (A)深圳 (B)珠海 (C)廈門 (D)天津。
- ( ) 東協是東南亞 10 國的區域整合組織，但經歷多年下來，又加入了許多綜合經濟夥伴，如中日韓澳紐印，我們該怎麼解釋這個趨勢？ (A)區域整合並非為了經濟 (B)區域整合已經失去原意 (C)區域整合是全球的趨勢 (D)區域整合以軍事為目的。
- ( ) 東南亞公約組織(Southeast Asia Treaty Organization，縮寫為 SEATO)，簡稱東約組織，於西元 1955 年 2 月 19 日在泰國曼谷成立的集體防衛組織。請問：美國成立東約組織的目的為何？ (A)抵抗日本帝國的侵略 (B)對抗亞洲的共產主義勢力 (C)東南亞的殖民地的管理 (D)協助東南亞的經濟建設。
- ( ) 西元 1954 年，東南亞公約組織在美國的籌組下成立，其運作方式與「北大西洋公約組織」類似，是一個軍事同盟。但東南亞公約組織卻在西元 1977 年解散。請問：東約組織瓦解的原因為何？ (A)文革爆發，東南亞國家展現了對毛澤東的崇拜，東約組織因而瓦解 (B)越戰的持續多年，引爆東南亞國家的仇美情緒 (C)東南亞國家經濟不佳，引發退出東約組織的浪潮 (D)東南亞國家紛紛與中共建交，東約組織未能發揮反共功效。
- ( ) 一九九〇年代，臺灣面臨勞工短缺、土地成本提高的經濟困境，政府鼓勵臺商與東南亞國家合作。請問：下列何者不是臺灣與東南亞合作的政策？ (A)加入東協，朝推動成立自由貿易協議區(東協十加一)的方向推進 (B)鼓勵臺商前往東協國家設立工廠 (C)引進東南亞勞工 (D)「新南向政策」強化經貿、人才與資源的交流。
- ( ) 西元 2018 年 9 月，南北韓領導人金正恩與文在寅於平壤簽訂《平壤共同宣言》，希望透過會談，結束戰爭狀態。此舉被認為是西元 1953 年以來兩韓關係更進一步的里程碑。然而雙方關係並非兩國說了算，背後許多國際外交上的角力仍待解決，此次宣言的效果仍待時間的驗證。請問：關於南北韓分裂的時代背景，下列敘述何者正確？ (A)一九五〇年代南北韓的衝突是越戰的延伸 (B)韓戰後南北韓雙方協議以北緯 17 度線為界 (C)美國支援南韓連帶影響臺灣的政治局勢 (D)除美蘇之外，中共也出兵援助南韓作戰。
- ( ) 現今我們周遭有許多的生活用品、電子產品是中國製造，中國儼然成為「世界工廠」，與全球經濟早已密不可分。請問：有關中國「世界工廠」角色的敘述，何者有誤？ (A)中國成為世界工廠是在改革開放之後的事 (B)中國的國內生產上升、人民收入增加 (C)可以看出中國的經濟、社會、政治已開放 (D)中國周遭的越南、北韓爭相模仿中國的成功經驗。
- ( ) 西元 1919 年的五四運動與西元 1989 年的六四天安門事件是兩場在中國近代史發展過程中爆發的學生革命運動，且剛好都是發生在天安門廣場前。請問：這兩場運動訴求的內容分別為何？ (A)五四運動：民主自由／六四天安門事件：全盤西化 (B)五四運動：經濟發展／六四天安門事件：德先生、賽先生 (C)五四運動：領土主權／六四天安門事件：民主自由 (D)五四運動：經濟發展／六四天安門事件：全盤西化。
- ( ) 右圖是一張聯合國製作的統計表。可以發現在甲時間點後，中國的勞動力開始出現上升的狀態。請問：中國勞動力上升的原因應為下列哪項政策的實施？ (A)改革開放 (B)大躍進運動 (C)廢兩改元 (D)統一度量衡。
- ( ) 一九九〇年代以來，臺灣商人開始前進東南亞地區投資，近年來更是因政府的「新南向政策」進一步強化經貿與人才交流。請問：東南亞國家吸引臺灣投資的原因主要為下列何者？ (A)勞工短缺 (B)土地成本高 (C)人口眾多，資源豐富 (D)大多為共產主義國家。
- ( ) 中共與蘇聯同是共產國家，兩者領土也相鄰，蘇聯在中共建國的過程中，曾經給予諸多的協助。然而，兩國的關係並非一直友好，在很長一段時間內，兩國關係曾經降至冰點。以下有關「中蘇關係」的描述，何者有誤？ (A)中共建國初期，在外交上採取親蘇政策 (B)毛澤東任內，兩國關係從友好走入交惡 (C)西元 1969 年，中蘇兩國因邊界問題快速惡化 (D)在中蘇交惡期間，美國曾介入調停兩國糾紛。

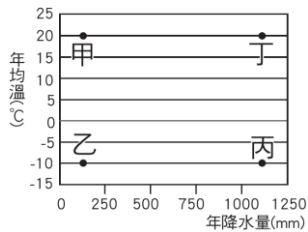


15. ( ) 玲芬在網路上搜尋越南歷史相關資料時，看到了一篇新聞報導，其部分內容如右圖：請問：美軍使用橙劑的時代背景，與下列何者相關？ (A)冷戰期間，美軍扶植的南越與北越衝突 (B)二次大戰爆發，美軍與日本在越南對峙 (C)越南為了脫離法國殖民，請求美軍協助 (D)美國刻意制衡蘇聯，因此派軍占領越南。
16. ( ) 香港港闊水深，又位於太平洋和印度洋航運要衝，西元 1997 年，英國交還香港主權，中華人民共和國設立「特別行政區」處理行政事務。請問：香港成為「特別行政區」的原因為何？ (A)減少當地居民因改變現況而造成統治上的困難 (B)受英國統治百餘年，大陸人對香港人有歧視 (C)中英《北京條約》約定香港主權歸還後享有至少五十年的自治權 (D)香港在回歸前為自由世界和共產主義陣營邊界的最前線，中國對香港有所顧忌。
17. ( ) 政治諷刺漫畫有著長久的歷史，以詼諧、通俗易懂的方式來傳達對時事的看法。右圖的漫畫是呈現什麼樣的政治局勢？ (A)西元 1976 年文革結束，中國向臺灣發動八二三炮戰 (B)香港、澳門回歸中國後，北京政府對臺灣加大了統一壓力 (C)西元 1989 年天安門事件爆發，引發臺灣社會人心惶惶 (D)兩岸展開大、小三通後，臺灣加入中國的經濟體制。

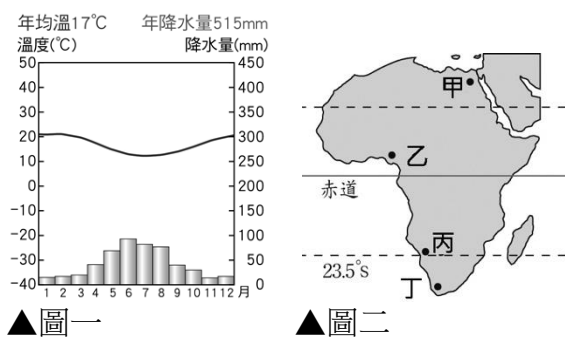
**致命「橙劑」禍害千餘年**  
美軍在西元 1962~1971 年戰爭期間，在越南噴灑了超過 8,000 萬公升的橙劑。橙劑含有致命化學物質，不但超過 300 萬名越南人出現各種身心疾病，他們的後代也出現四肢變形、身體扭曲等畸形現象。



18. ( ) 地球的經緯線為人為的假想線，可看出一地區的氣候及所在時區，若沿著經過臺灣嘉義的北回歸線向西方前進，將會到達非洲的哪一個地形區？ (A)撒哈拉盆地 (B)喀拉哈里盆地 (C)東非高原 (D)剛果盆地。
19. ( ) 非洲礦產資源豐富，如南非共和國盛產黃金、鑽石、鈾礦，奈及利亞與安哥拉則為重要的產油國。請問：非洲礦藏豐富，與下列何者關係最密切？ (A)地質屬古老的陸塊 (B)地形種類複雜多樣 (C)地層褶曲作用強烈 (D)河川堆積作用旺盛。
20. ( ) 下列何者為漠南非洲大部分地區的人口特徵？ (A)出生率高，死亡率更高 (B)人口成長緩慢 (C)幼年人口比例高 (D)勞動力嚴重不足。
21. ( ) 可可樹原生於中南美洲，最早在馬雅文化的歷史中便曾有種植可可的紀錄，該作物更曾被阿茲提克人譽為「眾神的食物」，直到十五~十七世紀進入大航海時代，各大洲之間開始貿易往來，可可才終於走出美洲。根據統計，目前全球可可最大生產量前五名國家分別為：象牙海岸、迦納、厄瓜多、喀麥隆、奈及利亞。依據上述判斷，可可適合的生長環境為附圖中何處？ (A)甲 (B)乙 (C)丙 (D)丁。



22. ( ) 電影《北非諜影》描述第二次世界大戰時，位於北非摩洛哥的卡薩布蘭加，成了歐洲難民躲避納粹迫害的自由跳板，因而聚集了歐洲各國人士，充滿詭譎的氛圍。卡薩布蘭加現已改名為達爾貝達，是摩洛哥位於大西洋岸邊的大港。電影迷如要到當地尋訪場景，為避免雨季減低遊興，最好選擇下列哪一個季節前往？ (A)春季 (B)夏季 (C)秋季 (D)冬季。
23. ( ) 非洲陸塊上分布著許多盆地，這些盆地由北而南依序排列，正確順序應為何？ (甲)撒哈拉盆地 (乙)剛果盆地 (丙)喀拉哈里盆地 (A)甲乙丙 (B)甲丙乙 (C)乙甲丙 (D)丙乙甲。
24. ( ) 西非幾內亞灣沿岸是非洲熱帶栽培業最發達的地區，在海邊的港口可見到一簍簍的農作物被裝載到貨輪上準備輸出。請問：輸出的農作物中，最不可能出現下列何種作物？ (A)小麥 (B)可可 (C)香蕉 (D)油棕。
25. ( ) 肯亞近年來為改善國內經濟，積極發展觀光業，遊客前往肯亞旅遊，不會看到下列哪一項景觀？ (A)巍峨的火山 (B)眾多的牛羚 (C)寬闊的草原 (D)絢爛的極光。
26. ( ) 在漠南非洲各國，不難發現基督宗教的蹤跡。有關漠南非洲的基督宗教，最有可能在何時傳播至此？ (A)羅馬帝國時期 (B)伊斯蘭帝國時期 (C)西方殖民時期 (D)現代民族國家時期。
27. ( ) 在人口密度低的熱帶雨林和莽原區，居民以最粗放的方式耕作，即指不除草、不施肥、不灌溉。在此種耕作方式下，當地居民採用何種方法維持農作的收穫量？ (A)利用機械化耕作 (B)維持較多人口 (C)經常遷移耕作地點 (D)利用牛、馬等畜力耕作。
28. ( ) 饑荒問題除了先天自然環境影響外，後天的人為活動也會導致該問題的惡化。漠南非洲除了人口過多導致糧食不足外，還與該地發展哪一種產業有關？ (A)熱帶栽培業 (B)地中海型農業 (C)游耕農業 (D)生態觀光產業。
29. ( ) 非洲政局自二十世紀以來，時常呈現不穩定的政治局勢，或許是同一個國家內族群紛雜，或許是一個族群分散在不同國家。請問：這種不穩定的局勢與下列何者有關？ (A)地形崎嶇不平 (B)歐洲列強殖民統治 (C)氣候的多元變化 (D)經濟發展型態不同。
30. ( ) 非洲氣候呈現「南北對稱」的分布，其原因與下列何者關聯性最大？ (A)赤道橫貫中部 (B)本初經線縱貫 (C)地形南北對稱 (D)四周海洋環繞。
31. ( ) 位於非洲的貝比隆斯托莊園以盛產葡萄酒為名，其氣候圖如附圖一所示。請問：貝比隆斯托莊園最有可能位於附圖二中何處？ (A)甲 (B)乙 (C)丙 (D)丁。



- ▲圖一 ▲圖二
32. ( ) 電視廣告上一句耳熟能詳的詞句：「鑽石恆久遠，一顆永流傳。」使鑽石成為許多人的最愛。請問：下列哪一個非洲國家即以生產鑽石著稱？ (A) 埃及 (B) 摩洛哥 (C) 奈及利亞 (D) 南非共和國。
  33. ( ) 由非政府組織推動的「公平貿易」，除了增加非洲農民收入，亦可將部分利益轉為當地社會津貼，可改善生活。下列何者為可行方法？ (A) 興建學校提高村民識字率 (B) 建立渡假村獎勵農民辛勞 (C) 不定期舉辦抽獎活動 (D) 廣設運動中心增加村民運動量。
  34. ( ) 智強想研究「全球板塊交界帶」與「火山地形、地震活動」的關聯性，下列非洲何處最適合做為此次研究的地點？ (A) 撒哈拉盆地 (B) 東非大裂谷 (C) 剛果河沿岸 (D) 南非高原
  35. ( ) 下列哪一個人所提到的行為與行政法有關？ (A) 翊潔：我今年九月開始讀小學一年級 (B) 予歆：我每天上班前會到便利商店買一杯拿鐵 (C) 承展：我最近常向室友借電腦玩網路遊戲 (D) 文睿：我每天出門前都會檢查瓦斯有沒有關好。
  36. ( ) 「訴願」與「行政訴訟」是兩種與人民權益相關的救濟程序，以下關於這兩者的敘述何者正確？ (A) 「訴願」是人民伸張權益的途徑，「行政訴訟」是政府處分人民的方式 (B) 人民欲提起「訴願」之前，必須經過「行政訴訟」的程序 (C) 任何法院皆可受理人民提出的行政訴訟案 (D) 訴願目的在於請求政府撤銷或變更原有的行政處分。
  37. ( ) 《勞動基準法》規定，基本上雇主不可雇用未滿幾歲的人？ (A) 12 (B) 14 (C) 15 (D) 16。
  38. ( ) 小勇今年 17 歲，因為誤交損友加入幫派，在某次幫派鬥毆事件中失手將對方打死。經檢察官調查後認為小勇觸犯殺人罪，將之移送少年法庭調查、審理。小勇可能受到何種處罰？ (A) 刑事處分 (B) 行政處分 (C) 保護處分 (D) 不予處分。
  39. ( ) 上完公民課後，有四位同學在討論訴願與行政訴訟的差異。下列何者的敘述完全正確？ (A) 俊源：訴願是人民向政府機關陳述希望國家未來的政策應如何執行 (B) 冠霆：訴願的管轄機關為處分的原機關 (C) 亭萱：行政訴訟為私人間發生糾紛時，提起訴訟的方式 (D) 美秀：人民若不服訴願結果，可向司法機關提出行政訴訟。
  40. ( ) 「罰鍰」是當人民有違法行為時常面臨的處罰，以下關於罰鍰的相關討論，何者正確？ (A) 是以剝奪自由作為處罰方式 (B) 罰鍰金額無一定標準，可由行政機關任意決定 (C) 民眾對罰鍰處分不服可尋求行政救濟來維護權益 (D) 罰鍰處分必須透過法院的判決始得宣告。
  41. ( ) 新聞報導：韓國爆發一起震驚社會的犯罪事件，主嫌誘拐包含 16 名未成年人拍攝性侵害、性虐待影片，於社群軟體開設不同空間分級觀看，並分級收費。某節目邀請四位同學以我國的法律看此事件，下列何者提出的看法並不正確？ (A) 廷維：民眾發現類似狀況都可以撥打 113 通報 (B) 鎮昌：我國會對遭受身心損害的兒少提供心理輔導 (C) 凱新：嫌犯可能會被依《兒童及少年性剝削防制條例》處以刑罰 (D) 芃妘：觀看影片的網友會被送緊急短期的收容安置。
  42. ( ) 國中九年級學生李大偉現年 15 歲，經常到玩具反斗城逛街，觀看假面騎士的模型。某天，他將模型偷偷放入書包中，但店員當場發現，報警處理。下列關於李大偉行為的敘述，何者正確？ (A) 觸犯《刑法》的強盜罪 (B) 可能會被處以有期徒刑 (C) 可能會被處以罰鍰 (D) 可能會被依少年保護事件處理。
  43. ( ) 行政法是與國家行政權運作相關的一系列法律，其規定往往與人民的權利義務密不可分，行政法並非某單一法律的名稱，以下哪一部法律不屬於行政法？ (A) 《社會秩序維護法》 (B) 《中華民國憲法》 (C) 《公職人員選舉罷免法》 (D) 《道路交通管理處罰條例》。
  44. ( ) 我國《行政程序法》第 4 條載明「行政行為應受法律及一般法律原則之拘束」。請依法治國家的角度推論，此規定具有下列何種意義？ (A) 國家所行使的權力均來自於人民的授權 (B) 使國家公權力分散，不集中在單一機關 (C) 使社會中的資源分配能符合正義的原則 (D) 防範政府不受拘束，排除國家權力濫用。
  45. ( ) 對少年所處的保護處分當中，下列何者由少年法院法官執行，並且可以要求少年撰寫悔過書？ (A) 訓誡 (B) 安置輔導 (C) 保護管束 (D) 假日生活輔導。
  46. ( ) 16 歲的小方因為吸毒、販毒遭警察逮捕移送法辦，法官念其初犯，且有悔意，因此處以保護處分。小方最嚴重可能會受到下列哪項處分？ (A) 訓誡 (B) 假日生活輔導 (C) 感化教育 (D) 有期徒刑。
  47. ( ) 「依法行政」是指國家的行政行為如果涉及影響人民的權利義務，必須有立法機關制定的法律作為依據，以避免政府濫權侵害人民的權益。下列何種行政行為須有法律的明確依據才可為之？ (A) 政府鼓勵民眾施打流感疫苗加強免疫力 (B) 警察勸導疑似遭到詐騙的民眾不要受騙上當 (C) 政府徵收人民土地以開闢新的聯外道路 (D) 縣市首長到災害現場勘查災情。
  48. ( ) 新聞報導：一間知名溫泉旅館被檢舉未合法登記，違法經營旅館業，遭罰 40 萬元並勒令停業，卻仍繼續營業，地方政府再度開罰 50 萬元並勒令停業，業者不服。業者提起行政訴訟，行政法院判決業者敗訴，全案仍可上訴。請由以上新聞資料推論，下列相關敘述何者正確？ (A) 開罰 50 萬元為行政處分，但勒令停業非行政處分 (B) 開罰業者 50 萬元為行政罰，但勒令停業非行政罰 (C) 由新聞資料可推論業者應是對先前的訴願結果感到不服 (D) 行政法院判溫泉業者敗訴後，業者可再提訴願。

49. ( )部分霸凌行為已涉及犯罪，然而許多霸凌別人的青少年直到警方找上門來，才知道自己已觸犯法律，必須負起法律責任。下列關於少年的犯罪行為，何人的認知是正確的？ (A)品錡：12 歲以上未滿 18 歲的少年犯罪，不會受刑罰處罰 (B)瑋傑：若觸犯處罰較輕的罪行，將依情形處以保護處分 (C)怡臻：少年犯罪應依《兒童及少年福利與權益保障法》處理 (D)子賢：父母是少年的法定代理人，由其代替少年受刑罰處罰。
50. ( )《勞動基準法》規定，童工每日工作不得超過幾小時？ (A)6 (B)8 (C)9 (D)10。