

雄市立蚵寮國民中學112學年度第一學期第一次定期評量八年級社會科試卷

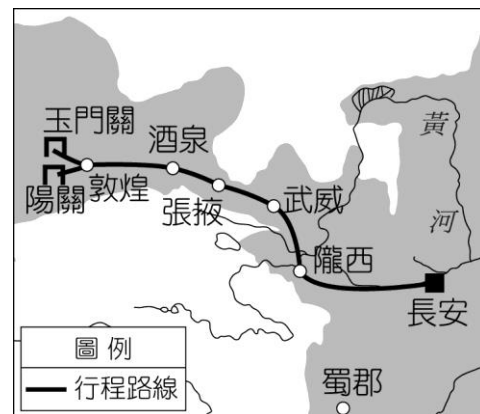
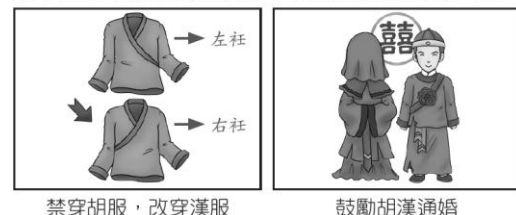
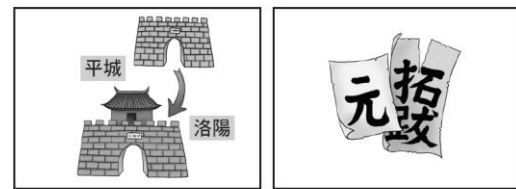
版本:康軒

範圍(L1~L2)

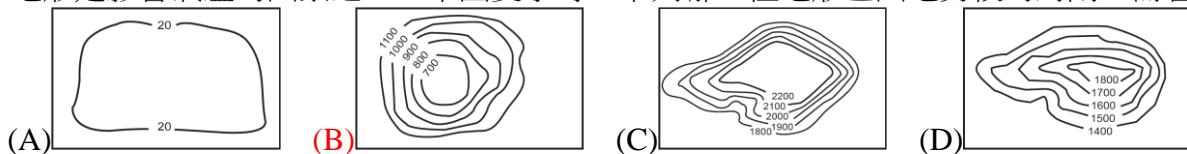
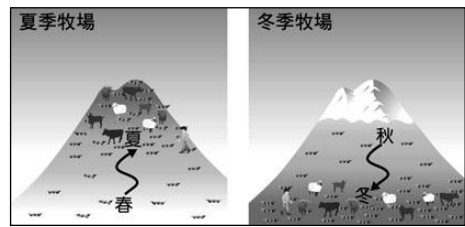

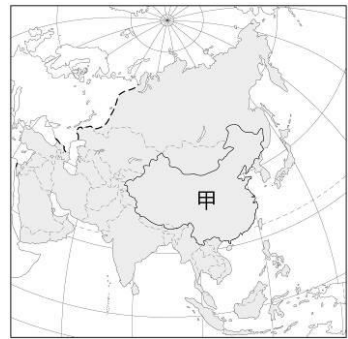
八年 班 座號： 姓名：

選擇50題一題2分

- () 文字是民族之間溝通的工具，也是文化聯繫的樞紐。文字、語言的不一致是很多國家和民族走向分裂的重要因素。根據附圖，統一文字這項功業是何人完成？ (A)周平王 (B)商鞅 (C)秦始皇 (D)劉邦。
- () 為鞏固政權，中國古代的政權曾推行許多政策。下列哪一政策是「透過嚴謹的制度，將王室姻親分封至各地，並以武裝殖民的方式，達到鞏固中央政權及地方控制的效果」？ (A)郡縣制 (B)戶籍制 (C)封建制 (D)科舉制。
- () 周朝是奠定中國傳統文化基礎的重要階段，周人施行封建制度，同時搭配宗法制度與□□制度，以鞏固政治社會秩序。請問□□制度指的是下列何者？ (A)禮樂制度 (B)科舉制度 (C)九品官人之法 (D)郡縣制度。
- () 唐朝時，西域的音樂、舞蹈等十分流行，而且從許多當時的工藝品可以看出「胡人」常作為藝術作品的主題。請問：此現象顯示何種社會文化特色？ (A)夷夏之防嚴峻，胡、漢互不往來 (B)胡人被漢人同化，自身文化消失 (C)強調「天朝上國」思想，胡人地位卑微 (D)胡漢融合，文化兼容並蓄。
- () 一篇文章中提到：「『他們』憑藉著家世背景便得以坐擁高官、享有厚祿，但實際上許多人能力欠乏，但卻可以掌握政治大權，並且擁有眾多的土地，還可以減免賦稅以及勞役，形同享有政治以及經濟上的特權。」文章中提到的「他們」指的應該是何者？ (A)西周的奴隸 (B)秦漢的學子 (C)魏晉的世族 (D)隋唐的官員。
- () 高仙芝是唐代名將，其家族原本是來自朝鮮半島的高句麗人，他後來隨父親遷至中國內地，並且志願從軍，長期鎮守西域一帶。他為唐朝立下不少戰功，卻在怛羅斯一役敗給阿拉伯帝國。此戰的失利使唐朝逐漸失去對中亞的控制權，也促成何種中國文物西傳？ (A)造紙術 (B)指南針 (C)火藥 (D)印刷術。
- () 源自印度的佛教約在西漢末年經西域傳入中國，到了魏晉南北朝時期，佛教開始盛行。請問：魏晉南北朝時期，佛教為何會在中國盛行？ (A)社會動盪，人心尋求宗教的慰藉 (B)大量佛教僧人來中國傳教 (C)朝廷以佛教思想治國 (D)當時流行西域文化，佛教自然也是流行文化的一部分。
- () 秦始皇廢除封建制度改行郡縣，郡縣的長官由朝廷調派。這項重要行政措施的轉變，對當時的政局有何影響？ (A)造成外戚與宦官的奪權 (B)形成藩鎮割據 (C)中央集權 (D)引發民亂。
- () 附圖是中國某時期的漢化政策示意圖，由圖中的內容判斷這應該是哪個君主所推動的政策？ (A)漢武帝 (B)北魏孝文帝 (C)秦始皇 (D)周武王。
- () 諸葛亮《前出師表》提到：「臣本布衣，躬耕於南陽」。說明諸葛亮從一介平民成為蜀漢丞相，這樣的案例在中國歷史上其實並非常態。請問：中國歷史上第一次平民有機會成為一國重臣的時期是何時？ (A)封建時代的西周 (B)兼併激烈的東周 (C)中央集權的秦代 (D)尊崇儒術的西漢。
- () 玄奘法師自幼即在佛門，亟欲一睹佛土的真面目，因此決定長途跋涉到西土一探究竟。於是他從河西走廊向西，一路經新疆、阿富汗、喀什米爾，總共在外19年。請問：玄奘所處的時代背景應為下列何者？ (A)周天子勢力衰微，中央全力鬆綁 (B)張騫出使西域，歐亞交通暢通 (C)秦始皇修築長城，陸上貿易安全 (D)唐朝風氣開放，外來文化傳入。
- () 綜觀歷史，我們可以發現中國史上有多次的人口南移現象，大量的人口從北方遷移至南方。請問：最早的一次人口大規模南移是在哪次事件之後？(A)秦滅六國 (B)永嘉之禍 (C)大秦入侵 (D)犬戎入侵。
- () 唐朝詩人王昌齡曾寫下：「秦時明月漢時關，萬里長征人未還；但使龍城飛將在，不教胡馬度陰山。」該詩主要在緬懷秦漢時期對抗北方草原民族的歷史。請問：詩句中，在秦漢時期常翻越長城進攻的「胡人」是哪一個民族？ (A)匈奴 (B)鮮卑 (C)契丹 (D)羌。
- () 政府要求諸侯、地方郡守等官員，考察他們所管理的老百姓和官吏中有賢才的，每年向朝廷推舉兩人，還要求地方每年舉孝子、廉吏各一人。這種選拔人才的方式，不但為政府選取了大量的人才，鞏固了統治，而且為知識分子進入統治階層開闢了一條道路。請問：這種選才方式出現在何時？ (A)秦朝 (B)漢朝 (C)魏晉南北朝 (D)唐代。
- () 東周時期，相較於周朝建立之初，不論是在周王室，又或者社會之中有著極大的差別。下列何種情況最不可能發生在東周時期？ (A)周天子不受諸侯所擁戴，諸侯紛紛爭霸 (B)國與國之間兼併激烈，戰事頻傳 (C)禮樂與宗法仍足以規範貴族的行為與身分秩序 (D)郡、縣體制在諸多地方已經開始施行，以此加強中央集權的統治。
- () 旅行社規畫了一趟古典歷史之旅，帶領遊客探訪中國舊時貿易路線，行程路線如附圖所示。請問：導遊在講解相關歷史時，有可能會提到下列何事？ (A)政府實行封建，分封諸侯 (B)秦代統一貨幣，有利集權 (C)漢代經營西域，東西互動熱絡 (D)唐朝國力強盛，征服外族。
- () 「東亞文化圈」有時也被稱為「漢字文化圈、中國文化圈」，關於東亞文化圈的相關敘述，下列何者正確？ (A)大食、吐蕃屬於受到東亞文化圈深刻影響的國家 (B)東亞文化圈主要成形的時間點為隋唐時期 (C)日本受到深刻的影響，曾被當時的中國稱為君子國 (D)朝鮮推動大化革新運動，主要目的是用來抵抗東亞文化圈造成的強勢影響



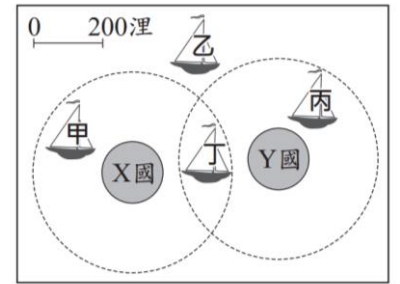
18. ()下列有關中國疆域的敘述，何者正確？ (A)位於東半球，亞洲東部，東臨大西洋 (B)跨熱帶、溫帶、寒帶三帶，幅員廣大 (C)南部有北回歸線通過，以南為熱帶氣候 (D)大部分地區屬熱帶氣候，高溫多雨。
19. ()目前中國設有 4 個直轄市，其中哪一個直轄市所處的緯度最低？ (A)天津 (B)北京 (C)重慶 (D)上海。
20. ()關於行政區與其居住的主要民族搭配，下列何者正確？ (A)廣西——回族 (B)內蒙古——藏族 (C)寧夏——滿族 (D)新疆——維吾爾族。
21. ()帥氣幽默的地理老師請同學針對附圖中「甲國」目前的人口特徵進行說明，下列何者不屬於該國的特性？ (A)小翊：人口數量龐大 (B)小鈞：空間分布不均 (C)小好：民族族系多樣 (D)小帥：人口成長緩慢。
22. ()「高氣壓籠罩在蒙古一帶，風向是從陸地吹向海洋。」上述情形應主要發生在哪一個季節？ (A)春季 (B)夏季 (C)秋季 (D)冬季。
23. ()中國以何處作為水田農業區與旱田農業區的分界？ (A)黑河至騰衝 (B)南嶺 (C)長城 (D)秦嶺、淮河。
24. ()附圖在形容中國的某一種人口問題，老師以這張圖為作業，請同學研究該圖所要表達的現象。以下四位同學繳回的報告中，哪一位的看法較為正確？ (A)禾佳：人口比例失衡，政府要注意老人福利制度 (B)家誠：性別比小於 100，可能與重男輕女觀念有關 (C)紘浠：性別比失衡，中國政府調整一胎化政策 (D)雪晴：人口素質偏低，使優秀女生很多人追求。
25. ()附圖為山牧季移示意圖，牧民會順應季節草場的更替，驅趕牲口上、下山。請問：這種畜牧方式主要分布於哪一個地區？ (A)青藏高原 (B)新疆沙漠地帶 (C)內蒙古高原東側 (D)黃土高原。
26. ()在乾燥的中國西部地區，內蒙古東側牧草生長旺盛，牧民多放牧牛群、馬群；往西到新疆則牧草稀疏，牧民多逐水草而居，以牧羊為主。請問：上述兩地牧民的維生方式不同，主要是受到下列哪一個因素的影響？ (A)緯度高低 (B)距海遠近 (C)地勢高低 (D)季風風向。
27. ()中國各地因環境特徵、人為活動差異，出現不同的環境問題。附圖中的何處即是因為農民為了增加耕地，在湖區「圍湖造田」，導致雨季來臨時，常發生嚴重水患？ (A)甲 (B)乙 (C)丙 (D)丁。
28. ()中國南方福建、廣東一帶，早期有大批居民移向海外謀生，因此被稱為「僑鄉」。造成此地區人口大量向外移動的原因，不包括下列何者？ (A)山多田少 (B)人口稠密 (C)出海便利 (D)政府鼓勵。
29. ()中國季風氣候區的季風風向不盡相同，下列何者為東南沿海地區夏季的季風風向？ (A)↗ (B)↘ (C)↖ (D)↗。
30. ()地形是影響氣溫的因素之一。中國夏季時，下列哪一種地形區因地勢較為封閉，而容易出現較高的氣溫？



31. ()芸婷想趁著假期來趟中國最低階梯四大平原之旅。請問：芸婷將不會前往下列何地遊玩？ (A)河套平原 (B)東北平原 (C)珠江三角洲 (D)華北平原。
32. () (甲)東北平原 (乙)華北平原 (丙)長江中下游平原 (丁)珠江三角洲，以上為中國東半部的四大平原，若峻巖搭飛機由南往北飛行，他依序看到的平原順序為何？ (A)甲乙丙丁 (B)甲丙丁乙 (C)丙乙丁甲 (D)丁丙乙甲。
33. ()雲南省境內 5,000 人以上的民族有 26 個，除了漢族外，少數民族有 25 個，如白族、傣族、佤族、納西族、獨龍族等。雲南成為少數民族分布最複雜的地區，最主要是受到下列哪一個因素影響？ (A)地形阻隔 (B)氣候暖溼 (C)交通便利 (D)移民政策。
34. ()下列是四位同學對「中國地勢三級階梯」的描述，其中哪一位同學說錯了？ (A)韋全：「最高階梯的高度最高，平均高度可達 4,000 公尺。」 (B)佳聖：「次高階梯位於最高階梯的東面和北面。」 (C)沛昀：「次高階梯包括塔里木盆地與黃土高原等地形。」 (D)子玄：「最低階梯的主要地形是平原和高原，高度落差大。」
35. ()我國參加世界級各項運動會都會受到中國打壓，先是我國選手國籍被矮化，入境卡上只能填寫「CHINA」、主辦單位受到壓力會突然在電視轉播畫面撤下我國國旗，導致臺灣選手成為當天出賽選手中，唯一國旗欄位空白的選手。通常結果是僅提供「中華臺北奧會旗」的選擇，我方迫於無奈，往往只能接受這樣的結果，否則就無法參賽。請問：文中主要爭議的國家構成要素為何？ (A)領土範圍 (B)政府組織 (C)國家主權 (D)國民身分
36. ()一群勞工因為勞資糾紛協商不成，因此申請集會遊行上街頭抗議，街旁某唱片行則大聲播放歌曲支持這群勞工。執勤的警察分局長認為唱片行的做法有礙秩序，即率員警進入店內，拉下鐵門，並取走音響裡的 CD 光碟，告誡店家後率隊離去。關於此事件，以下敘述何者正確？ (A)警察取走 CD 光碟是為維護社會秩序，符合法治國原則的要求 (B)唱片行大聲播放歌曲，表達對抗議群眾的支持，屬於人身自由的展現 (C)如果警察分局長是在檢察官的指揮下率隊進入店家，就是合法的執行職務行為 (D)警察進入店家並取走 CD 光碟是一種搜索扣押，應取得法院核發的搜索票才算合法

37. ()我國籍遠洋漁船上，船長與漁工的對話如下：漁工小義：「船長，我們可以下網捕魚了嗎？」船長小城：「沒問題，我們的船已經開到可自由捕魚的公海上了。」根據上述內容判斷，小城的船隻最可能位於圖(八)中哪一個位置？【105教育會考】

(A)甲 (B)乙 (C)丙 (D)丁



圖(八)

38. ()國家的構成要素之一為人民，下列是四位同窗好友的相關資料。若僅根據表中內容判斷，何者最可能不曾具有我國國籍，非屬我國人民？(A)林小潔 (B)陳小涵 (C)李大賢 (D)王大軒

姓名	出生地	出生時父母的國籍	現況
王大軒	洛杉磯	中華民國	擔任立法委員
李大賢	臺中	美國	在澳洲工作
陳小涵	臺北	美國 (擔任高雄市市議員
林小潔	西雅圖	中華民國	在日本留學

39. ()幾位同學在討論總統於國慶日發表的演說，下列何人的陳述內容可說明我國對外具備「主權」此一國家組成要素？

訂定開發計畫，協助邦交國推動基礎建設。

(A)



通過公教年金改革，舒緩年金破產的危機。

(B)



落實長照政策，使民眾就近獲得照顧服務。

(C)



整合跨部會資源推動反毒，加重販毒刑責。

(D)



40. ()現代國家是為人民而存在，右圖中所討論的事件顯示該國未具備現代民主國家的哪一項功能？(A)改善教育環境(B)促進產業發展(C)扶助弱勢群體(D)保障基本人權

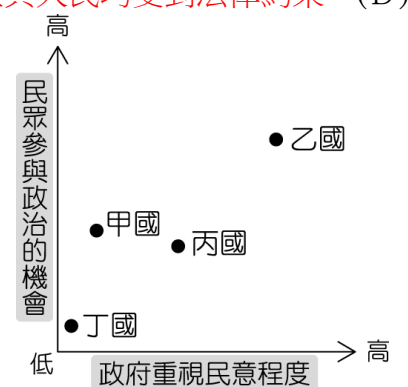
諾貝爾和平獎得主劉曉波因倡導民主言論被中國政府長期監禁，最終罹癌過世，真令人惋惜。

中國政府侵害人民言論自由的做法，一直以來都受到國際社會的譴責。

41. ()根據《警察勤務條例》第11條規定：「臨檢：於公共場所或指定處所、路段，由服勤人員擔任臨場檢查或路檢，執行取締、盤查及有關法令賦予之勤務。」但警察執法時亦不能逾越必要程度，以免侵害《憲法》保障人民的人身自由權。由上述判斷，下列說明何者最為正確？

(A)法規落實警察對人民的臨檢權利 (B)法律保障人民身上的自由權力 (C)執法單位與人民均受到法律約束 (D)警察機關執行勤務不受法律規範

42. ()小俊根據四個國家的現狀，在右圖中標出對應位置，圖中哪一個國家的民意對政府施政較能發揮影響力？(A)甲國 (B)乙國 (C)丙國 (D)丁國



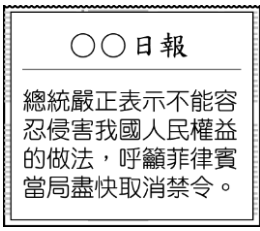
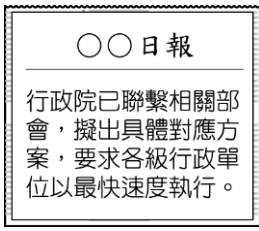
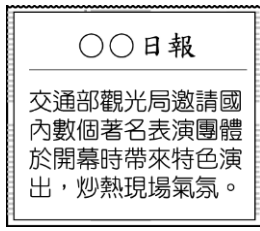
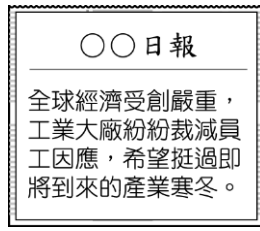
43. ()我國中央政府體制是依據五權分立原則而建立的，與歐美民主國家不同，依照新聞評論的內容判斷，其主旨應為下列何者？

(A)五權分立理論易產生濫用私人缺失
 (B)司法獨立審判機制將侵害人民權利
 (C)權力平衡狀態恐造成政府效能低落
 (D)政府機關分權制衡可避免專權政治

新聞評論

監察委員約談法官引發社會關注，根據孟德斯鳩的理論，司法權依據法律獨立行使，超出黨派之外，但若對其缺乏監督的力量，對民主國家的發展其實並無好處。

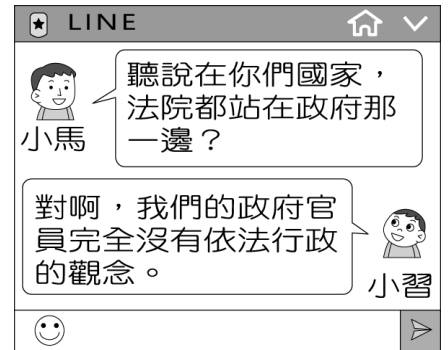
44. () 國家與政府的差異可由幾個面向進行探討，下列哪一則新聞內容是代表國家的具體象徵？

- (A)  (B)  (C)  (D) 

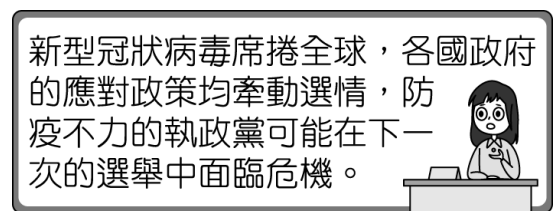
45. () 颱風來襲導致賀奇市淹水成災，由於市府消防隊員的疏失，造成部分民眾傷亡，事後，賀奇市市長為此宣布辭職。上述市長的做法最符合民主政治的哪一種內涵？【100北北基聯測】

- (A) 民意政治 (B) 法治政治 (C) 責任政治 (D) 政黨政治

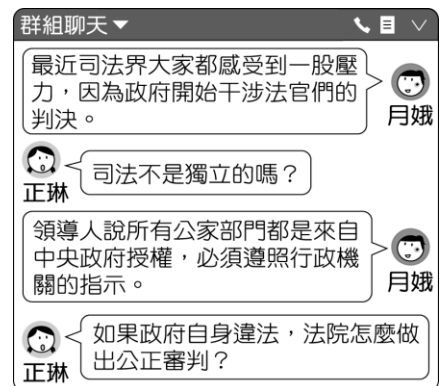
46. () 小馬與一位網友討論國家的司法運作，如圖所示。請問：由網友小習的回答可知他們國家的做法違反哪一項重要原則？



- (A) 法治政治 (B) 民意政治 (C) 責任政治 (D) 政黨政治
47. () 小慧看到一則新聞播報如圖，根據該位主播指出的危機，應可做出下列何項推論？



- (A) 人民可以決定執政者的去留 (B) 國家會隨制度變遷而改變 (C) 政府須使用公權力執行政策 (D) 國家的權力對內具有最高性
48. () 某一國家的網友在社群網站上討論時事，根據圖對話內容判斷，網友們擔心的問題最可能為下列何者？



- (A) 行政、司法相互制衡 (B) 犯罪事件層出不窮 (C) 政府權力過度集中 (D) 人民對政治的冷漠
49. () 為完成公民報告，組員必須蒐集相關資料，每個組員被分配到的部分如下所示。請問：這組所負責的主題應該是民主治理所具備的哪一項特色？

分配表	
彎彎	透過定期選舉公平競爭
阿德	政權和平轉移
巧柔	組織政府、執行政策
小光	監督政府施政

50. () 亞昌從行政院網站下載了一份資料，並整理成下圖所示，這項計畫應屬於現代民主國家的哪一項功能？



- (A) 保衛國家安全 (B) 促進經濟發展 (C) 維持社會秩序 (D) 保存文化傳統。