

雄市立蚵寮國民中學112學年度第一學期第一次定期評量九年級社會科試卷

版本:康軒

範圍(L1~L2)

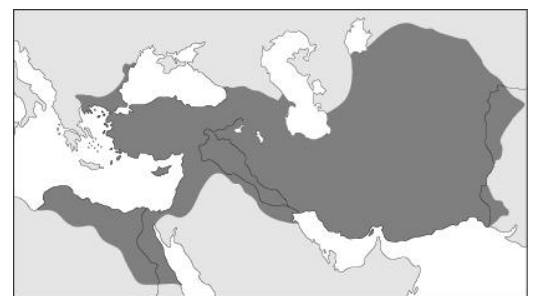
九年 班 座號： 姓名：

選擇 50 題一題 2 分

- () 西元 528 年，某國皇帝組成十人委員會編纂法典，簡化原有的羅馬法律，重視民法中的平等原則。法典立法嚴謹、考慮周全，成為後世歐洲各國法律的典範。請問：此法典為何？ (A)《漢摩拉比法典》 (B)《幾何原本》 (C)《查士丁尼法典》 (D)《十二表法》。
- () 西歐在成為日耳曼民族世界的同時，在東方的拜占庭帝國仍然屹立不搖。六世紀時，有位君王積極恢復羅馬帝國的領土，曾經一度收復義大利、北非和西班牙等地。請問：這位君主應是下列何者？ (A)屋大維 (B)查士丁尼 (C)君士坦丁 (D)凱撒。
- () 瑞士的韋伯基金會曾經票選出新世界七大奇觀，其中包括義大利的「圓形競技場」遺址。這處遺址展現了哪一個民族的獨特性格？ (A)羅馬人的務實性格 (B)希臘人的浪漫情懷 (C)波斯人的專制迷信 (D)埃及人的自然崇拜。
- () 腓尼基人將哪個地區的文字加以改良，並向外傳播，成為日後西方拼音文字的源頭？ (A)兩河流域 (B)埃及 (C)中國 (D)伊朗高原。
- () 古埃及的測量、醫藥、曆法、文字等文明成就都相當卓越，即使已過了數千年，仍為後世讚嘆不已。請問：有關古埃及文化的敘述，何者正確？ (A)為了要建造金字塔，與丈量氾濫後的土地，故測量技術發達 (B)埃及位處熱帶，常有傳染病肆虐，為了防治因而醫藥學很先進 (C)長期觀察河水氾濫的時間，並根據月球運行的週期，發展出陰曆 (D)用削尖的蘆葦桿在溼軟的泥版上書寫，發明了楔形文字。
- () 世上運動員莫不以取得奧運金牌為無上榮耀，體育精英齊聚一堂較勁的奧運會，實則早在西元前 776 年，即因酬謝天神宙斯而舉辦。請問：當時比賽地點是在附圖中的何處？ (A)甲 (B)乙 (C)丙 (D)丁。

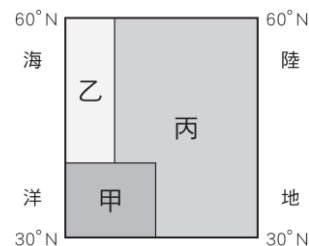


- () 柯玲芬對希臘歷史有著濃厚的興趣，老師鼓勵他閱讀史學巨著《歷史》。此書以有趣、輕快的文筆描述人的豐功偉蹟，淡化傳統由神主導人世的觀念。此書的成功使之後的作家不敢再重述波希戰爭的故事。請問：老師推薦給柯玲芬的是何人的著作？ (A)歐幾里德 (B)荷馬 (C)阿基米德 (D)希羅多德。
- () 《死者之書》是埃及通往永生的手冊，死者要在陰間接受陰間之神奧塞里斯審判，將死者的心臟放到天秤上，如果天秤能保持平衡，就能通過審判，獲得復生。請問下列何者與《死者之書》有關？ (A)建造金字塔 (B)製作木乃伊 (C)尼羅河氾濫 (D)書寫象形文。
- () 柯吉霸對凱撒的事蹟充滿好奇；如果他想多了解凱撒的生平，下列哪一本書最適合他閱讀？ (A)《特洛伊戰爭》 (B)《羅馬共和史》 (C)《埃及法老之謎》 (D)《希臘化文化的源由》。
- () 陸淑芬在《舊約聖經》〈出埃及記〉中看到一段經文：「……人若彼此爭鬥，傷害有孕的婦人，甚至墜胎，隨後卻無別害，那傷害他的，總要按婦人的丈夫所要的，照審判官所斷的受罰。若有別害，就要以命償命，以眼還眼，以牙還牙，以手還手，以腳還腳，以烙還烙，以傷還傷，以打還打。……」請問：在摩西律法中，以牙還牙、以眼還眼的判決方式，最早可從何處發現？ (A)中國的法家思想 (B)巴比倫人的《漢摩拉比法典》 (C)波斯人的祆教信仰 (D)中國的《四書集注》。
- () 元 1921 年，美國芝加哥大學宣布編纂古阿卡德語字典。來自世界各地的學者組成編輯團隊，須研究西元前 2500 年的西亞古文物泥版，並判讀上面的文字。由於古文字無標點符號，且泥版破損嚴重，導致編纂工作愈發困難。請問：上述專家所研究的泥版文字，最有可能是何者？ (A)象形文字 (B)楔形文字 (C)甲骨文字 (D)拼音文字。
- () 某部電影內容介紹：「他是軍事天才，征服了世界，並從未打輸過一場仗；他是理想家，要征服的不單是土地，而是人類的軟弱與恐懼，甚至乎死亡。在他不到 33 年的生命裡，其帝國坐擁了今天的希臘、埃及，甚至到印度河流域。」從內容判斷，這部電影的名稱最可能為何？ (A)波希戰爭之謎 (B)木馬屠城記 (C)亞歷山大東征 (D)波斯帝國。
- () 附圖是柯吉霸在書上看到的某帝國疆域圖，並有文字說明如下：「這個民族興起於伊朗高原，在西元前六世紀時，建立橫跨歐、亞、非三洲的帝國。」請問：這是哪一個民族所建立的帝國？ (A)猶太人 (B)蘇美人 (C)波斯人 (D)巴比倫人。
- () 星際電視臺最近開拍歷史片——羅馬風雲，計畫從古羅馬建城演到四世紀末帝國分裂為止。請問：下列哪個角色在此劇中的登場時間最晚？ (A)王政時期的國王 (B)羅馬和平時期的皇帝 (C)掌有權力的元老院貴族 (D)羅馬共和晚期崛起的軍人。
- () 他發現了浮體力學，週期、拋物線、球體、圓柱體，與制定滑輪和槓桿原理，為物理學奠定基礎。這位上古時期的物理學家是何人？ (A)阿基米德 (B)歐幾里德 (C)希羅多德 (D)荷馬。
- () 學生閱讀下列一段資料：「希臘人稱這片土地為『美索不達米亞(Mesopotamia)』，『Meso-』意思是中間，『potamia』



則是河流，後世便習慣以『兩河流域』來稱呼這片土地。」請問這位同學在閱讀的是哪篇內容？ (A)中國文明起源 (B)古印度大探索 (C)西亞文化光輝 (D)金字塔的祕密。

17. () (甲)埃及 (乙)中國 (丙)西亞 (丁)希臘。希臘化文化是融合以上哪些地區的文化而形成的？ (A)甲乙丙 (B)甲乙丁 (C)甲丙丁 (D)乙丙丁。
18. () 歐洲聯盟的主要目的之一，是維持歐洲的和平與穩定，但疲弱的經濟成長使得歐盟已成為世界上嚴重的失業重災區之一，也讓人質疑「加入歐盟」的必要性。請問：下列哪一個國家首先「脫歐」，已對歐盟內部的團結埋下隱憂？ (A)德國 (B)法國 (C)英國 (D)荷蘭。
19. () 歐洲三面環海，面積不及亞洲的四分之一，常被視為歐亞大陸的一個大半島；大半島內又有許多半島，海岸外還有大小不一的島嶼，加上又有海灣深入陸地，形成「海中有海，灣中有灣」的景象。請問：下列哪一個歐洲的半島與其他三個半島所在地區的氣候類型差異最大？ (A)義大利半島 (B)伊比利半島 (C)巴爾幹半島 (D)斯堪地那維亞半島。
20. () 西歐和北歐的氣候特徵為雨季較長，降水量較豐，年均溫較高，且年溫差較歐洲其他氣候類型小。此一氣候特色除了受到北大西洋暖流的影響之外，還與下列哪一方向的盛行風向有關？ (A)← (B)→ (C)↑ (D)↓
21. () 新聞報導指出：「這個歐盟總部所在的國家，曾在大選後，因荷語與法語派的兩大政黨一直無法達成共識，籌組聯合政府失敗，因此該國處於無政府狀態長達五百多天之久……。」請問：上述報導中的國家為何？ (A)荷蘭 (B)比利時 (C)盧森堡 (D)奧地利。
22. () 亞洲與歐洲是一相連的大陸，兩洲之間以下列哪些山脈為主要分界？ (甲)阿爾卑斯山 (乙)烏拉爾山 (丙)高加索山 (丁)庇里牛斯山 (A)甲乙 (B)甲丙 (C)乙丙 (D)丙丁。
23. () 上完地理課後，同學們紛紛提出對阿爾卑斯山的了解。請問：下列哪位同學的見解最為正確？ (A)冠霆：阿爾卑斯山地勢低緩 (B)佳偉：阿爾卑斯山會阻擋西風 (C)美秀：阿爾卑斯山呈現東西走向 (D)玉玲：阿爾卑斯山嚴重阻礙歐洲交通。
24. () 附圖是帥氣幽默的地理老師在上課時繪製的歐洲氣候簡圖。帥氣幽默的翊鈞老師請同學針對三區的氣候特徵進行說明，其中何者最為正確？ (A)瑋傑：丙區年溫差大、夏雨冬乾 (B)秉宏：乙區年溫差小、夏乾冬雨 (C)蕙慈：甲區緯度較低、終年有雨 (D)芊雅：受「←」風向影響，丙區較乙區多雨。
25. () 「荷蘭的花卉拍賣生意是由 Royal FloraHolland 合作社發起，100 年前一群花農在酒吧設計系統，控制鮮花的出售方式。現在 Royal FloraHolland 合作社經營 4 個拍賣場，每年出售約 120 億株植物和花卉，光是在 Aalsmeer 的拍賣場有超過 75 個足球場大，平均每天有 10 萬筆交易；買家出價後，不到 12 小時，大多數花朵就會送到歐洲各地。荷蘭成為花卉外銷王國。」請問：荷蘭的花卉大多種植在下列何種環境？ (A)峽灣兩側的沿岸 (B)山麓下的沖積扇 (C)沙漠邊緣的綠洲 (D)近海低窪的土地。
26. () 俄羅斯的莫曼斯克位於北極圈內，緯度極高，但卻為北極圈內少數終年不凍的港口。此一事實和下列哪一因素關係最密切？ (A)洋流性質 (B)植被有無 (C)地勢高低 (D)距海遠近。
27. () 西伯利亞地區幅員廣大，可見的地形景觀亦有差異，若由西到東排列，依序應是哪些地形景觀？ (A)平原、山地、高原 (B)山地、平原、高原 (C)平原、高原、山地 (D)高原、山地、平原。
28. () 北歐各國致力於綠色環保能源產業的開發，若以環境條件來看，北歐使用下列何種能源的條件最不好？ (A)水力 (B)地熱 (C)風力 (D)太陽能。
29. () 下列何者為歐洲各分區的共同自然環境特徵？ (A)皆無沙漠氣候 (B)海岸皆平直少曲折 (C)皆以平原為地形主體 (D)皆是夏乾冬雨的氣候。
30. () 中國的小米手機已成為俄羅斯最受歡迎的手機，小米集團更強調在俄羅斯已有 152 家專賣店，店鋪分布的位置橫跨 10 個時區，可以帶給更多人方便的生活。請問：小米集團在俄羅斯的店鋪位置橫跨 10 個時區的最主要原因為何？ (A)緯度過高 (B)國土廣大 (C)氣候乾冷 (D)暖流經過。
31. () 西元 2020 年 6 月，俄國某礦業公司才釀出漏油事汙染北極海，不久後又承認該工廠員工偷排廢水至氣候酷寒、無法生長樹林的北極海沿岸地區，影響了當地生態。請問：這些廢水滲入土壤裡，將導致哪一種植物生態受到傷害？ (A)橄欖 (B)橡膠 (C)牧草 (D)苔原。
32. () 國家地理雜誌在西元 2009 年將挪威峽灣評為全世界最美的旅遊地，遊客可以選擇自駕或是乘坐火車，深入長約百公里的海岸，周邊處處是山崖峭壁、飛瀑美景。請問：此一壯麗自然美景是受到何種作用而形成的？ (A)火山噴發 (B)斷層陷落 (C)冰河侵蝕 (D)風力堆積。
33. () 「Burberry 是一家英國服裝和奢侈品公司，以風衣著稱，是創始人專為英軍的需要而設計，其防水原料獲得專利保護。下雨刮風時豎起高領，繫好釦子，防水防風的質料有效防止內衣打溼，長長的下擺也可免除褲子被濺溼，加入設計元素後，成為民眾日常必備單品。」請由文中敘述，推論英國氣候具有下列哪一項特徵？ (A)全年酷寒、降水稀少 (B)冬季短暫、乾季不顯 (C)夏熱冬寒、夏雨冬乾 (D)四季分明、終年有雨。
34. () 西元 2020 年新冠肺炎疫情襲擊全球，對歐洲各國人民的往來造成很大的影響，下列敘述何者正確？ (A)歐洲各國邊境一直保持關閉的狀態 (B)非歐盟會員國無法參與申根公約的簽訂 (C)歐洲多國簽訂申根公約的目的主要在於取消邊境管制 (D)同為申根會員國的國家，進出時仍須使用簽證。
35. () 圖(十二)為小江在面臨新工作機會時的選擇情況，若小江僅依薪資高低選擇薪資最高的工作，根據圖中內容判斷，甲、乙、丙工作的薪資高低關係為下列何者？【106 教育會考】(A)丙 > 甲 > 乙 (B)丙 > 乙 > 甲 (C)甲 > 乙 > 丙 (D)甲 > 丙 > 乙

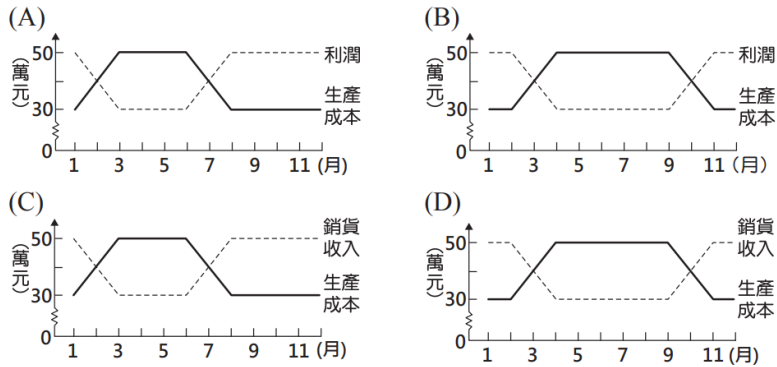


圖(十二)

36. ()右列是阿韓說明網路購物的部分內容，根據內容判斷，此種交易方式最可能降低商家的哪一種生產成本？【110教育會考補考】(A)加工製造 (B)交通運輸 (C)店面裝潢 (D)設計研發

商家能夠在網際網路上架設銷售商品的「虛擬商店」，僅由文字、圖像、影片等訊息介紹商品，顧客不需出門就可滿足消費需求。

37. ()表(七)為去年度某商品的部分銷售資料。根據表中資料判斷，下列何者最可能為該商品的銷售紀錄？【110教育會考補考】



表(七)

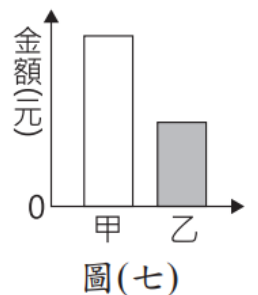
月分(月)	1	3	5	10	12
當月利潤	盈餘	0	虧損	0	盈餘

38. ()小安有甲、乙、丙三份工作機會，將其機會成本繪製如表(三)。若小安在繪製表格時僅以薪資為考量，根據表中內容判斷，甲、乙、丙三份工作的薪資，由高到低依序為下列何者？【105教育會考】(A)丙、乙、甲 (B)甲、丙、乙 (C)丙、甲、乙 (D)甲、乙、丙

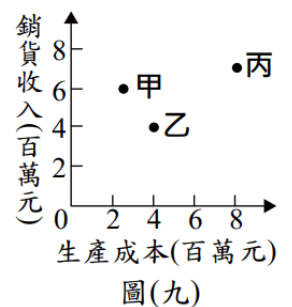
表(三)

工作	機會成本
甲	丙的薪資
乙	甲的薪資
丙	甲的薪資

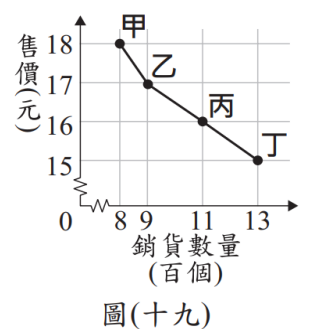
39. ()圖(七)為某班園遊會擺設冷飲攤的營收結果，其中甲代表銷貨收入，乙代表利潤。若後來發現生產成本中少列入一筆設備租金費用，在此筆費用列入計算後，圖中甲、乙最可能出現的情況為下列何者？【108教育會考】(A)甲不變，乙下降 (B)甲不變，乙不變 (C)甲下降，乙不變 (D)甲下降，乙下降



40. ()某工廠擁有三條生產線，分別生產甲、乙、丙三項產品，上半年的銷售成果如圖(九)所示。近日廠長決定停止生產其中一項產品，並把該生產線轉為生產其他二項產品中的其中一種，期望增加工廠的利潤。在考量各產線上半年獲利的狀況下，根據圖中資訊判斷，下列四個方案中，何者最能達成廠長的目標？【109教育會考】(A)停止生產甲，增加生產乙 (B)停止生產甲，增加生產丙 (C)停止生產乙，增加生產丙 (D)停止生產乙，增加生產甲



41. ()某大賣場固定以每顆10元的價格向農場收購高麗菜，且每日均將當日進貨產品全部售完。圖(十九)是大賣場在甲、乙、丙、丁四日銷貨數量與售價的關係圖，若僅根據圖中內容判斷，這四日中利潤最高的營業日，其定價是幾元？【109教育會考補考】(A) 15 (B) 16 (C) 17 (D) 18



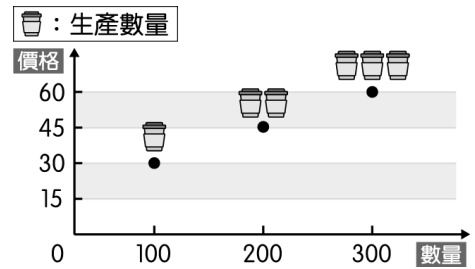
42. ()創新科技公司為了讓其產品「LED省電燈泡」的銷售量增加，在各大報紙刊登廣告，內容如圖(六)所示。根據圖中內容判斷，該公司最可能是採取下列何種方式來達成目標？【111教育會考】(A)價格競爭 (B)降低成本 (C)建立品牌形象 (D)延長營業時間



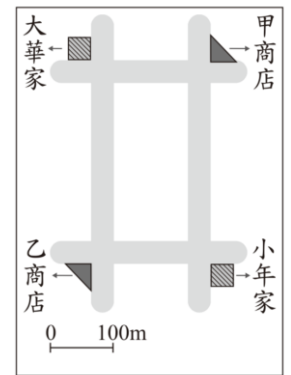
43. ()「飢餓行銷」是一種常見的行銷手法，指的是業者在短時間內利用各種管道宣傳大批民眾排隊購買的熱潮，營造該項商品都會很快被搶購一空的情況，透過媒體將商品炒作成為時下流行的話題，進而引起民眾的消費欲望。關於上述行銷手法對於消費市場的影響，下列敘述何者最適當？【112教育會考】

- (A)廠商間的競爭使消費者的選擇增加 (B)業者的行銷手法將提高市場競爭程度
(C)民眾的購物意願受非金錢誘因影響而提高 (D)消費者受價格誘因影響而增加消費欲望

44. ()小筠在課堂上聽老師解說附圖，做筆記時卻只抄到「當其他條件不變，……」，他來不及抄的部分最可能為下列何者？
- (A)飲料價格上漲時，顧客會減少飲料的消費數量
 (B)飲料價格上漲時，顧客會增加飲料的消費數量
 (C)飲料價格上漲時，廠商會增加飲料的生產數量
 (D)飲料價格上漲時，廠商會減少飲料的生產數量



45. ()圖(十八)為大華與小年住家附近的地圖，甲、乙二商店均販賣大華與小年想購買的某項商品，且該商品在甲商店的售價比乙商店高。若大華僅想就近買到商品，而小年卻只想以便宜的價格購買，則對此二人而言，到哪一間商店購物的機會成本較高？【111教育會考】
- (A)大華:乙商店，小年:甲商店 (B)皆為甲商店 (C)大華:甲商店，小年:乙商店 (D)皆為乙商店



圖(十八)

46. ()在日常生活中，通常當商品價格調降時，消費者對該商品的購買數量會產生何種變化？
- (A)不變 (B)減少 (C)增加 (D)不一定。
47. ()阿俊大學畢業後，有三個工作機會，其中甲工作年薪60萬，乙工作年薪50萬，丙工作年薪70萬。若僅就薪資考量，阿俊如果選擇丙工作，則其機會成本是多少？ (A)50萬 (B)60萬 (C)70萬 (D)110萬

48. ()王老闆開設的文具店於某國中對面，因此店內銷售的商品必須迎合學生喜歡新奇的心理，才有可能創造收益。上述王老闆販賣的商品，主要是考量下列哪個課題而決定？ (A)生產什麼 (B)為誰生產 (C)如何生產 (D)哪裡生產。

49. ()機會成本的概念提醒我們：「有得必有失」。根據附圖內容，下列哪一項敘述正確？
- (A)俊安的行為所付出的機會成本只有500元
 (B)俊安排隊的10個小時不須算入機會成本中
 (C)俊安耗費的體力無法衡量，因此不須計入機會成本
 (D)俊安花費的機會成本至少為1,500元



50. ()南韓人氣女團 BLACKPINK 在高雄國家運動場開唱，4.5萬張門票於開賣瞬間被秒殺，網路上的黃牛票甚至被炒到一張40萬元。根據上述，購買該演唱會門票的消費行為深受下列哪一種因素影響？
- (A)消費者偏好 (B)預期心理 (C)所得水準 (D)價格因