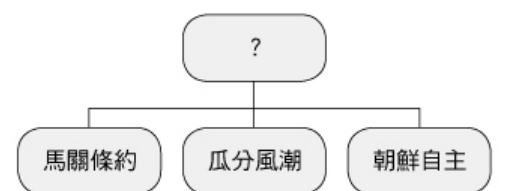
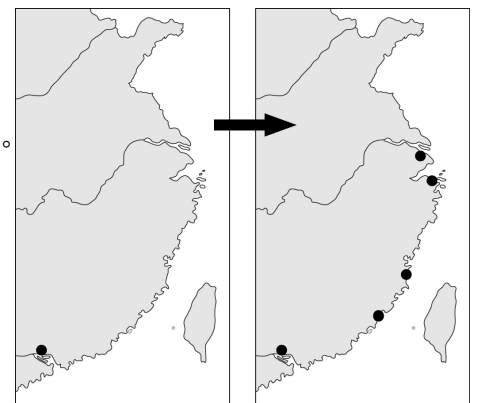
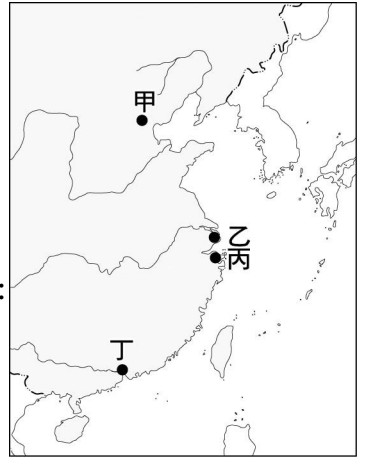


高雄市立蚵寮國民中學112學年度第一學期第三次定期評量八年級社會科試卷

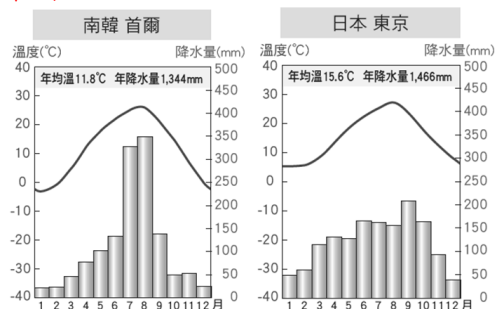
版本:康軒 範圍(L3~L4) 八年 班 座號: 姓名:

選擇50題一題2分

- () 近代中國的對外關係，是由閉關自守走向商埠開放，最後逐漸與國際社會接軌。請問：這是從哪一場戰爭開始的？
(A)鴉片戰爭 (B)英法聯軍 (C)清法戰爭 (D)牡丹社事件。
- () 光緒21年，康有為與其他舉人共一千餘人聯合上書光緒皇帝，要求「拒和、遷都、再戰、變法」。請問：這是當時的知識分子對下列哪個條約的憤怒所致？ (A)《南京條約》 (B)《北京條約》 (C)《馬關條約》 (D)《辛丑和約》。
- () 柯吉霸是清代的知識分子，自小生活在上海，在清廷開放與外國通商後，柯吉霸在街道上經常可見外國人經商買賣、傳播宗教，有時他會與外國人交談，得知西方各國不同於中國的風俗民情，進而對西方國家物質文明與現代思想產生興趣。請問：柯吉霸可以透過哪一讀物更加了解西方國家的文明與思想？ (A)《臺灣民報》 (B)《萬國公報》 (C)《自由中國》 (D)《四書集注》。
- () 西元1845年11月29日，中國的某地出現了第一個租界，至西元1943年7月30日結束，歷時近百年。是中國的外國租界中開闢最早，存在時間最長，面積最大，管理機構最龐大，發展也最為充分，是中國最早有自來水、電燈、電話、電車等設施的地方。請問：文中描述的「某地」，是指附圖中哪一個城市的租界？ (A)甲 (B)乙 (C)丙 (D)丁。
- () 每個時代都有自己的審美觀念，現代的臺灣若回溯過往二十年來的髮型、裝容、服裝，也可以看到相當不同於今天的審美，很難想像短短二十年內的審美差異會如此之多。請問：清朝末年的審美觀開始有較大轉變，最可能是從何處開始興起？ (A)朝廷內部 (B)通商口岸 (C)各國使館 (D)官宦之家。
- () 鴉片戰爭的起因與林則徐通令外商繳出鴉片，並加以銷毀有關。依當時中國僅開放一口通商的歷史背景判斷，林則徐在下列哪一個城市銷毀鴉片？ (A)北京 (B)廣州 (C)南京 (D)上海。
- () 美珍說道：「中國在十九世紀中葉以後，已經體認到變革圖強的重要性，因此，推動清朝以來的第一個改革運動。」請問：這個改革運動的提出是受到什麼背景的影響？ (A)鴉片戰爭戰敗 (B)英法聯軍戰敗 (C)英國遣使來華 (D)香港被割讓。
- () 清末女權意識逐漸抬頭，在參加革命之前，秋瑾曾奉父母之命結婚，後來不顧家庭反對，前往日本留學，最後甚至參加了革命運動。請問：下列哪一種看法較符合秋瑾認為女性應在家庭中所扮演的角色？ (A)應遵從父母之命，做個三從四德的女子 (B)扮演好賢妻良母的角色，照顧好家庭成員 (C)應接受新式教育，以達到保國強種的目標 (D)反對傳統婚姻的束縛，應追求獨立自主。
- () 中國之所以會引發庚子拳亂，是因為民眾長期與外來文化接觸，因此，形成了什麼樣的對外態度？ (A)仇洋反教 (B)平等互惠 (C)互助互信 (D)對等外交。
- () 中國通商口岸的開放，影響著外商在中國的貿易活動是否能順利進行，附圖是中國兩個不同時期所開放的通商口岸，請問：中國從左圖原本只有一口通商，轉變為右圖的開放五個通商口岸，最關鍵的原因是下列何者？ (A)簽訂《南京條約》 (B)簽訂《天津條約》 (C)簽訂《北京條約》 (D)牡丹社事件爆發。
- () 「以前的中國曾經有一段飽受外人欺凌的歲月。例如：政府首度同意讓外國人在通商口岸設置工廠，因此無法藉由關稅來保護本國的產業。」這樣的情況是受到哪個條約內容的影響？ (A)《南京條約》 (B)《辛丑和約》 (C)《天津條約》 (D)《馬關條約》。
- () 明黛看到黑板上老師將以下的活動歸類在一起，如：「戊戌變法」、「庚子後新政」、「立憲運動」。請問：老師將這三項活動歸類在一起，是因為他們都屬於哪個層次的運動？ (A)器物 (B)制度 (C)物質 (D)文化。
- () 日俄戰爭的結果，給了清朝很大的刺激，他們沒想到小島國竟然可以打敗大國，當時中國朝野人士在思考之後，認為日本的勝利，最重要的是作了什麼樣的改革？ (A)採行徵兵制 (B)實施君主立憲 (C)學習西化軍事制度 (D)強調社會階級一律平等。
- () 光緒34年《欽定憲法大綱》頒布，原訂於9年後(宣統8年)召開國會，但16省督撫聯合電請清廷在宣統3年即開國會，清廷不但置之不理，還以武力鎮壓各省請願代表，梁啟超憤而指出：「宣統8年召開國會為將來歷史上必無之事」，意為清廷苟活之日已所剩無幾。請問：清廷的做法造成什麼影響？ (A)在立憲派持續推動下，清朝終實施君主立憲體制 (B)立憲派對清廷澈底失望，從此不再參與政治活動 (C)立憲派與革命派合流，以較激烈的方式表達訴求 (D)清廷組織責任內閣，表達對制憲、開國會的誠意。
- () 柯玲芬在整理上課筆記時，畫出附圖的組織圖，但是她將上面的部分漏掉了，她應該填上什麼才對？ (A)鴉片戰爭 (B)甲午戰爭 (C)英法聯軍 (D)自強運動。
- () 老師在歷史課堂上，請同學們針對「晚清的城市風貌」此一主題進行討論，下列哪個同學的發表內容明顯有誤？ (A)在租界內，中國傳統建築與西洋樓房並存 (B)隨著都市經濟發展，出現了許多新型態的娛樂 (C)有清廷的官差到租界抓外國犯人 (D)報紙、雜誌成為城市居民獲取新知識和發表意見的管道。




17. () 一位英國官員說道：「我們跟中國的貿易量十分龐大，如果能取得□□的權利，就可以減少貨物進口到中國時所需繳納的費用。」請問：這位英國官員提到的是什麼權利？ (A)領事裁判權 (B)協定關稅 (C)五口通商 (D)割讓香港。
18. () 流經日本列島的寒、暖洋流分別為下列何者？ (A)寒流：黑潮、暖流：親潮 (B)寒流：親潮、暖流：黑潮 (C)寒流：黑潮、暖流：中國沿岸流 (D)寒流：中國沿岸流、暖流：親潮。
19. () (甲)本州 (乙)北海道 (丙)四國 (丁)九州，以上為日本四大島嶼，若由北而南進行排列，下列順序何者正確？ (A)甲乙丙丁 (B)甲乙丁丙 (C)乙甲丙丁 (D)乙甲丁丙。
20. () 七大工業國組織(Group of Seven, G7)是一個由世界七大已開發國家所組成的國際組織，日本是七個國家中唯一的亞洲國家，該國工業發展的優勢條件不包括下列何者？ (A)便捷的海運交通 (B)優良的研發能力 (C)豐富的礦產資源 (D)優異的勞工品質。
21. () 「日本自一九七〇年代起，便積極在東南亞投資，透過『投資、貿易、援助』三位一體的模式，不斷強化與加深和湄公河五國交往的程度，其中，主力集中在泰國及越南。」請問：一九七〇年代日本企業就已到中南半島進行投資，當時這些企業到東南亞投資的主因最可能為下列何者？ (A)勞工便宜 (B)電費便宜 (C)交通便利 (D)開發市場。
22. () 朝鮮半島以長白山與中國相隔，其地形的樣貌看起來就像一個「彘」字一樣，請問：下列關於朝鮮半島地形的敘述何者正確？ (A)太白山脈位於西北方 (B)河流多注入日本海 (C)蓋馬高原位於南方 (D)平原分布於西南方。
23. () 日式料理中常見魚的相關料理。請問：日本漁業發達的原因與下列何者無關？ (A)氣候較暖溼 (B)海岸線曲折 (C)寒暖流交會 (D)捕撈技術佳。
24. () 近年來，日本、南韓推動智慧型農業政策，如農業產銷輔助人工智慧、無人駕駛耕耘機等，這項政策的推動除了因應未來市場需求以外，還受到什麼因素的影響？ (A)氣候異常愈發頻繁 (B)國土空間嚴重不足 (C)農業勞動人口減少 (D)水土流失增加風險。
25. () 北韓擁有豐富資源，奠定其工業發展的基礎，以下關於北韓的敘述，何者正確？ (A)礦產與水力資源比南韓豐富 (B)工業技術較南韓進步 (C)與南韓長年和諧共處 (D)是東北亞的經濟發展中心。
26. () 附圖是南韓首爾與日本東京的氣候圖，下列四位同學分別說明自己觀察到的差異，並作出解釋，何者的觀察與解釋完全正確？ (A)小慧：因七八月颱風較多，首爾年降水量較豐沛 (B)阿甲：受海洋的調節，使首爾的降水分布較平均 (C)邦子：受緯度高低的影響，東京的冬季較為溫暖 (D)阿明：因四周被海洋圍繞，東京的年溫差比較小。



27. () 來自東北亞的四位同學在網路上分享各自家鄉的特色。請問：選項中哪一位同學來自於南韓，且其所述之特色是受到氣候的影響？ (A)芷萱：我家由於冬季寒冷，醃製泡菜成為一項重要文化。 (B)玉婷：由於海流的關係，我們家鄉漁業資源相當豐富呢！ (C)鼎智：我們這常可見到古代木造建築，是受到地震影響。 (D)有定：我的家鄉不常發生地震，石造、木造或泥造建築皆會看到。
28. () 西元2014年9月亞運在南韓仁川舉行，當中華女網得到團體金牌的消息傳回國內後，激起了蚵寮國中的同學們對仁川這個城市的興趣和好奇。帥氣幽默的地理老師詢問同學對南韓了解度，請問下列同學們的陳述何者錯誤？
 A)小翊：仁川位於朝鮮半島，實施民主政體
 (B)小鈞：仁川是南韓的首都，各項發展皆很進步
 (C)小真：當地氣候應屬溫帶季風氣候
 (D)小帥：在仁川街上可見三星電子產品和現代汽車。
29. () 南韓近年來經濟成長快速，各項3C產品在全球供應鏈已占有一席之地。請問：下列關於南韓的經濟特色，哪位同學的敘述正確？ (A)以中小企業為主 (B)以紡織品等流行服飾出口為主 (C)國家大力扶植大型財團 (D)農產加工為重要外銷產品。
30. () 「職人劇」是受歡迎的日劇題材之一，編劇大量搜集田調資料，以戲劇化的情節去包裝真實的職業狀況，讓觀眾可以透過追劇，洞悉各行各業血淋淋的職業生態。例如：《高嶺之花》將花道中西文化融合，進而深化日本在地的文化特色、《午餐女王》則是凸顯和風洋食的兼容並蓄。上述日劇之所以能反映如此多東西文化揉和的特色文化，與下列何者有關？ (A)位置 (B)地形 (C)氣候 (D)距海遠近。
31. () 南韓在二十世紀末確定了「文化立國」政策，經過三十多年努力，如今已成為全球文化產業出口大國之一。下列何者不屬於「韓流」現象的展現？
 (A)韓團BTS與速食業聯名推出套餐 (B)韓式料理店在歐美吸引大批人潮 (C)韓劇拍攝場景成為熱門觀光景點
 (D)多啦A夢擔任申請奧運大使。
32. () 南韓綜藝節目《一日三餐》中，可以看到藝人在鄉間實際參與種植作物、準備三餐。在他們烹調的過程中，常可見每餐必備多種醃漬的食物，如「泡菜」就是餐桌上不可或缺的配菜。請問：此種飲食型態與下列何者關係最大？ (A)緯度高生長季短 (B)居內陸降水較少 (C)出海不易食物少 (D)日照強蒸發旺盛。
33. () 臺灣民眾現在偏好吃的蓬萊米，其實是從日本引進的品種，經過育種改良後，才在臺灣廣泛種植。請問：臺灣和日本皆有種植稻米，在生產條件上有何共同特徵？ (A)氣候寒冷，生長季短 (B)河川眾多，水源無缺 (C)耕地狹小，集約經營 (D)機械耕作，成本低廉。

34. () 附圖為日本所研發，一個會表達情緒的AI類人型機器人，而此種人工智慧也是近年來日本積極發展的產業類型。請問：此類型產業所具有的特徵不包括下列何者？ (A)勞力密集 (B)技術密集 (C)資本密集 (D)高附加價值。



35. () 為了維護選舉的公平與公正，並排除他人對選舉的干預與控制，我國在選舉相關法律中訂出某些規定，以確保每位選民的安全與自主意志得以展現。下列何項規定是為了落實上述目的？
 (A)符合法定資格的公民皆可以投票(B)每位選民皆有一票，且每票等值(C)直接經由選民投票選出公職人員 (D)選民不得帶攝影器材進入投票所
36. () 某黨主席在一場選舉活動中，為該黨候選人李大同拉票的發言內容如下：「李大同已多次連任，具有豐富的經驗，相信他一定能為大家好好的監督政府，請各位選民繼續給他連任的機會。」李大同所參選的公職人員最可能是下列何者？【104年會考】(A)市長 (B)立法委員 (C)監察委員 (D)鎮長
37. (B)) 甲、乙、丙三人在同一年先後將戶籍由新北市土城區遷到澎湖縣馬公市，但到了當年十二月進行地方選舉投票時，依法三人中卻只有二人具有投票資格。若僅考慮設籍時間對投票資格的影響，這三人遷入馬公市的時間最可能為

下列何者？【109教育會考補考】

(A)

月分	4	5	6	7	8	9	10	11	12
遷戶籍者	甲	乙		丙					

(B)

月分	4	5	6	7	8	9	10	11	12
遷戶籍者		甲		乙			丙		

(C)

月分	4	5	6	7	8	9	10	11	12
遷戶籍者				甲			乙	丙	

(D)

月分	4	5	6	7	8	9	10	11	12
遷戶籍者						甲	乙		丙

38. () 表(四)呈現阿森在近三屆我國總統選舉資格的表(四)變化情形。根據表中內容判斷，阿森在第14屆至第15屆之間最可能發生了下列哪一件事？【111教育會考】(A)被政黨開除黨籍(B)遭法院監護宣告 (C)遷移戶籍至其他縣市 (D)遭法院判處褫奪公權

表(四)

屆次	總統選舉 參選資格	總統選舉 投票資格
13	不具備	具備
14	不具備	具備
15	不具備	不具備

39. () 英國國會是國家最高立法機關，分為上、下議院，在十九世紀以前，下議院的選舉有嚴格的財產和性別限制。以我國《憲法》來看，這違反了何項選舉原則？ (A)普通原則 (B)平等原則 (C)直接原則 (D)無記名原則
40. () 總統選舉時，楊阿硯先生(甲)帶著健保卡、印章和投票通知單，前往(乙)戶籍所在地投票所。阿硯領取選票，並(丙)以選委會準備的工具圈選候選人後，在投入票匱前，(丁)將選票折好避免他人看到並投入投票箱中。上述楊阿硯的行為，何者違反選舉法規？ (A)甲 (B)乙 (C)丙 (D)丁
41. () 就鄉長選舉而言，花媽家有五個人，其中花媽今年40歲，花爸45歲，橘子12歲，柚子10歲，有個受監護宣告的祖父65歲。請問：若依據目前法規規定，花媽一家中有幾個人有投票權？ (A)五個人 (B)四個人 (C)三個人 (D)二個人
42. () 德國民眾發起一項請願案，希望德國政府能與我國建立正式外交關係，5萬人連署門檻已經通過，接下來交由德國請願委員會審查是否送交國會討論。根據上述，在民主社會中，公共意見具有的特性，下列敘述何者正確？
 (A)民眾意見的差異性會導致社會分裂 (B)公共意見不可干涉國家的對外事務 (C)民眾的公共意見可能影響政府政策(D)不穩定的公共意見將引發對立衝突
43. () 我國地方行政首長和民意代表的公職人員選舉，依法定期舉行選舉，表現民主政治的精神。請問：關於上述，下列何者正確？ (A)所依據的法律是《公民投票法》 (B)連任的規定均是沒有任期的限制(C)皆必須在選舉區設籍滿6個月 (D)最低參選年齡，至少必須年滿23歲
44. () 某電視政論節目邀請國內主要政黨的民意代表參加，針對「新冠肺炎疫情蔓延，總統是否發布緊急命令？」的議題發表評論與建議。請問：上述政黨的民意代表針對政府政策發表意見，最能彰顯政黨具備下列哪一項功能？
 (A)提名候選人 (B)監督政府，反映公共意見 (C)獲取執政 (D)提升民眾對該黨理念的認識

45. ()彰化縣醫療界聯盟、台灣健康空氣行動聯盟與藻礁公投推動聯盟共同攜手，宣布不排除在公投前發動護藻礁氣候遊行，力催公投第四案同意票。請問：有關上文中的三個團體的敘述何者正確？(A)皆以取得政權為目的 (B)皆由從事相同職業者組成(C)皆屬於公益性的利益團體 (D)皆會推派候選人
46. ()下列關於各種公共意見特性的敘述，何者有誤？
(A)影響性：強調社會大眾的價值觀與思考判斷方向，主要受到公共意見的影響
(B)複雜性：社會成員對於同一個議題的意見表達呈現差異，有反對也會有支持，甚至是其他想法
(C)議題性：公共意見是社會成員共同面臨的特定議題，經由公開表達與討論後形成共識
(D)變動性：強調民意如流水，民眾的立場可能會改變
47. ()小琴和阿哲兩人正在討論以下新聞臺所播報的內容。「總統蔡英文在就職演說中，宣示成立修憲委員會，首要任務是投票權下修到18歲。此提案也罕見地取得在野黨的認同。」關於兩人的討論內容，哪一項敘述正確？
(A)小琴：目前不管對人或事的投票，年齡規定都是20歲 (B)阿哲：下修投票權的年齡，更可以落實選舉的平等原則
(C)小琴：下修投票權的年齡，可提供更多人政治參與的機會(D)阿哲：投票權除了年齡的限制，被褫奪公權者也不能投票
48. ()美國總統選舉，和臺灣不同，是採取選舉人團(Electoral College)方式。首先，選民是直接將票投給該州的選舉人，也就是投給代表民主黨、共和黨或其他政黨的選舉人。接著，再由得票最高的選舉人政黨，組成該州選舉人團，行使總統投票權，基本來說，各州選舉人幾乎會將票投給在本州贏得最多選票的候選人。請問：從上文描述，美國和臺灣的選舉原則哪項不同呢？(A)普通原則 (B)平等原則 (C)直接原則 (D)無記名原則
49. ()公民課是佑佑最喜歡的科目之一，他總是期待能將課堂所學的實際運用在生活中。他今年年滿18歲，終於有機會參與人生第一次投票。他在過程中展現良好的民主素養，把握手中珍貴的一票，投下了自己的決定。請問：下列何者是佑佑在參與第一次投票前，可能會做的事情？
(A)審慎考量候選人素質 (B)認真分析執政黨政績 (C)積極參與造勢晚會 (D)理性討論各議題內容
50. ()承上題，根據公民課所學內容，佑佑的戶籍應設在選舉區至少幾個月才能投票？(A)6個月 (B)5個月(C)4個月(D)3個月