

高雄市立蚵寮國民中學112學年度第一學期第三次定期評量九年級社會科試卷

版本:康軒

範圍(L3~L4)

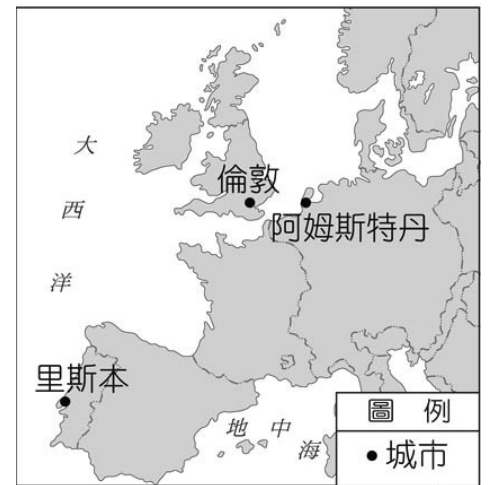
九年 班 座號： 姓名：

選擇50題一題2分

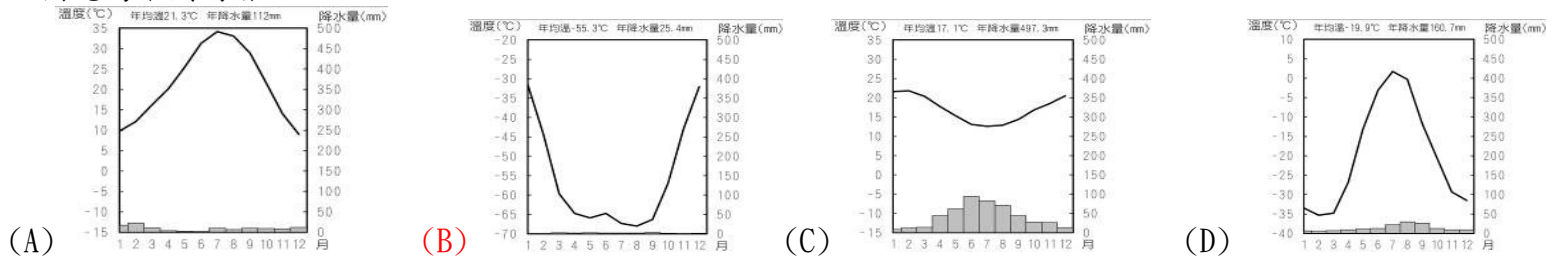
- () 十七世紀初，歐洲一家公司獲得政府授權，專門經營亞洲的商業貿易。這家公司為維持海上航路暢通，不僅組織軍隊，也在各地設立據點，設官管理，臺灣曾是其控制的重要據點之一。上述是哪一家公司？ (A)法國西印度公司 (B)英屬東印度公司 (C)荷蘭西印度公司 (D)荷蘭聯合東印度公司
- () 柯玲芬在介紹某位科學家時，拿出一張如附圖的說明圖片，從圖中內容判斷，柯玲芬應該在介紹下列哪位科學家？ (A)培根 (B)牛頓 (C)伽利略 (D)哥白尼。
- () 這個國家的王室資助海外探險活動，發現歐洲人前所未聞的美洲大陸，並在當地建立殖民地，開採大量黃金、白銀，成為十六世紀歐洲的富強國家。上述是哪一個國家？ (A)法國 (B)義大利 (C)葡萄牙 (D)西班牙
- () 笛卡兒的「我思故我在」早已成為舉世傳誦的名言，因為這句話，人類結束了西方歷時一千多年的中古哲學，而開闢另一新紀元。他是第一個以科學方法向「有」的「真實性」挑戰的思想家。請問：文中的科學方法，應是下列何者？ (A)演繹法 (B)歸納法 (C)實驗法 (D)觀察法。
- () 柯吉霸選擇了「麥哲倫」為歷史人物報告的主題，他應該會在報告中提及下列哪一個相關內容？ (A)發現美洲新大陸 (B)船隊環繞世界一周 (C)開啟歐亞之間的新航路 (D)首先發現非洲南端的好望角。
- () (甲)葡萄牙征服了古老的阿茲提克與印加帝國 (乙)南美洲玉米、馬鈴薯作物傳入歐洲，成為世界各地重要的食物 (丙)引入美洲豐富的煤礦，加速其商業的繁榮與財富的累積 (丁)歐洲國家追捕非洲黑人至美洲為奴隸，為殖民地的拓展提供勞力。請問：上述歐洲海外征服與拓殖的敘述何者正確？ (A)甲乙 (B)甲丁 (C)乙丁 (D)丙丁。
- () 「十八世紀後期，甲國人到乙地建立殖民地，在甲國武力鎮壓下，當地原住民被大量殺害，或被趕至荒地帶。此外乙地也成為甲國流放本土罪犯的地方。」依照上文所述，下列說明何者正確？ (A)「甲」國應為西班牙 (B)「甲」國在殖民過程，推翻了當地的王國 (C)「乙」地應為澳洲 (D)「乙」地曾先後被西班牙、英國殖民。
- () 民初新文化運動期間，有人反對中國傳統思想與制度，並主張全盤西化。在此種風氣下，市面上出現《馬克思的世界革命》一書，內容對資本主義有諸多的分析與批判。請問：這本書的產生與下列何事關係最為密切？ (A)科學革命後產生理性的態度 (B)工業革命後產生勞工問題 (C)新航路發現後產生黑奴問題 (D)宗教改革後產生宗教戰爭。
- () 十八世紀中葉，工業革命率先在英國展開，在社會、政治、科技、外交等方面都產生不可磨滅的影響。請問：下列何者是工業革命後帶來的影響？ (A)大型工廠吸引大批人口前往就業，逐漸形成新興市鎮 (B)工業革命促成有經濟能力的中產階級興起，帶動文藝復興的發生 (C)工業革命首先是交通工具的革新，接著紡織及其他生產技術有大幅度的改進 (D)工業革命使得百姓日益富有，貧富差距縮小。
- () 附圖為十八世紀時歐洲興起的城市，這些城市的興起與下列何事的關係最為密切？ (A)宗教改革 (B)海外的拓展 (C)伊斯蘭教的傳播 (D)文藝復興。
- () 電影《國家寶藏》中，身為寶藏獵人的主角去法國尋找線索時，受到當地警察的質問，此時他說：「我國(美國)可是深受貴國□□的思想影響，設立了三權分立的政府，所以我們可謂感情深厚。」請問：主角提到的歷史人物，應該是指哪一位？ (A)盧梭 (B)孟德斯鳩 (C)伏爾泰 (D)狄德羅。
- () 自歐洲探險船隊陸續抵達美洲後，中南美洲印第安原住民的人口數量，在短時間內以極快的速度減少，其可能的主要原因為何？ (A)美洲原住民多移民到歐洲生活 (B)無法抵抗歐洲人帶來的傳染病 (C)美洲糧食被銷往海外導致饑荒 (D)被大量販賣到亞洲礦場當苦工
- () 現代西方歷史學上，對於文明的起源，比起四大文化古國，更傾向「文化搖籃」這一說法。西方學者認為除了歐亞大陸的四個文化發源地以外，在美洲還有兩個文化可以稱為文化搖籃，即位於現代墨西哥的馬雅文化，以及位於現代秘魯的哪一個文化？ (A)印加文化 (B)阿茲提克文化 (C)巴比倫文化 (D)愛琴文化。
- () 十六世紀以來，西方列強陸續抵達南亞與東南亞，並展開殖民與掠奪。請問：附圖中所標示的三個歐洲殖民列強，來到亞洲的先後順序應該為何？ (A)甲乙丙 (B)甲丙乙 (C)丙甲乙 (D)丙乙甲。
- () 十七世紀某個國家成立了「東印度公司」，並向外拓展商業據點，這個國家的東印度公司來到印度，並與當時統治印度的蒙兀兒帝國達成協議，得以在印度沿岸建立商館。之後，蒙兀兒帝國內部逐漸衰弱，這個國家的東印度公司則擊敗蒙兀兒帝國，並逐漸併吞印度。請問：上述提及的國家是下列哪一個國家？ (A)英國 (B)荷蘭 (C)葡萄牙 (D)西班牙。
- () 啟蒙運動促進歐洲的近現代化，對於現代世界的形成有重要的影響。請問：這個運動最主要的內涵是什麼？ (A)海權時代來臨，歐洲人開始探索東方未知世界 (B)闡明基督教教義，促使歐洲人重新領會神的啟示 (C)強化民族意識，提升王權以鞏固國家勢力 (D)提倡自由與理性，應用科學方法解決社會問題。
- () 一間手機廠商的廣告標語「科技始終來自於人性」，一語道破「需要是發明之母」這句話。如果不是因為對速度、產量的需求，人類不可能有生產上的突破，更不會有製造業的出現。請問：促成工業革命的出現，應該歸功於下列哪個產業的突破？ (A)鋼鐵產業 (B)運輸產業 (C)煤礦產業 (D)棉紡織業。



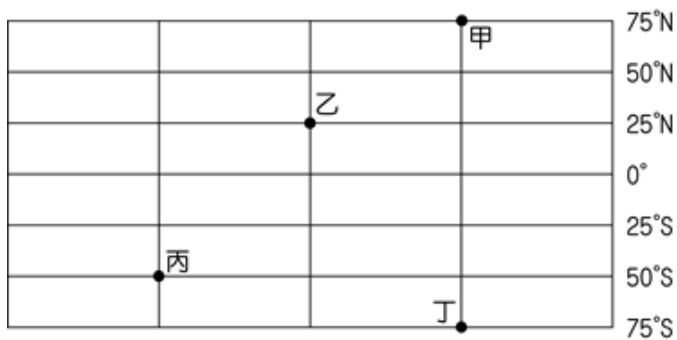
*萬有引力
*三大運動定律
*站在巨人肩上



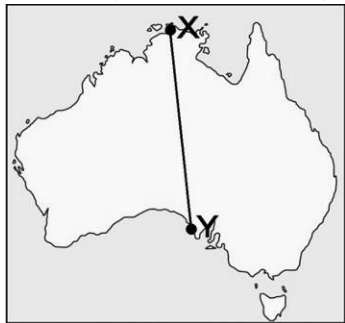
18. () 澳洲野火自西元2019年9月延燒至2020年2月，大火除了造成無數民宅被燒毀及動物棲息地受到毀滅之外，野火的灰塵顆粒被盛行風帶往鄰近的紐西蘭，導致該國的阿斯帕林山國家公園內的冰河變為異常的紅色。請問：文中提及的盛行風所指為何？ (A)東北信風 (B)東南信風 (C)西南季風 (D)盛行西風。
19. () 電視廣告中出現紐西蘭溪谷邊乳牛喝水的畫面，根據此畫面，可以推論紐西蘭的畜牧業發達。事實上，紐西蘭出口許多乳酪、奶油、奶粉、羊毛產品，除了人口稀少、勞力不足等因素之外，還與下列哪一項原因有密切關係？ (A)距離歐、亞等主要市場較遠 (B)避免與大洋洲其他國家產品相同 (C)加工後利潤較高 (D)降低勞工薪資。
20. () 南極地區與北極地區皆處於極圈內，但南極的氣溫卻比北極低，造成此現象的主要原因為何？ (A)南極為一完整大陸且地勢較高 (B)南極的人口較稀少 (C)南極較不受地球暖化的影響 (D)南極的降水較多。
21. () 每年的4月25日是「世界企鵝日」，英國慈善機構「英國南極遺產信託基金會」在網路上公開徵才，要招聘4人在西元2022年10月底至2023年3月，赴南極洛克羅伊港(Port Lockroy)經營全球最南端的郵局，工作內容包括：計算巴布亞企鵝的數量並觀察牠們，工資從每月約1,600美元到2,300美元不等。請問：文中提及的工作地點，其氣候圖應為下列何者？



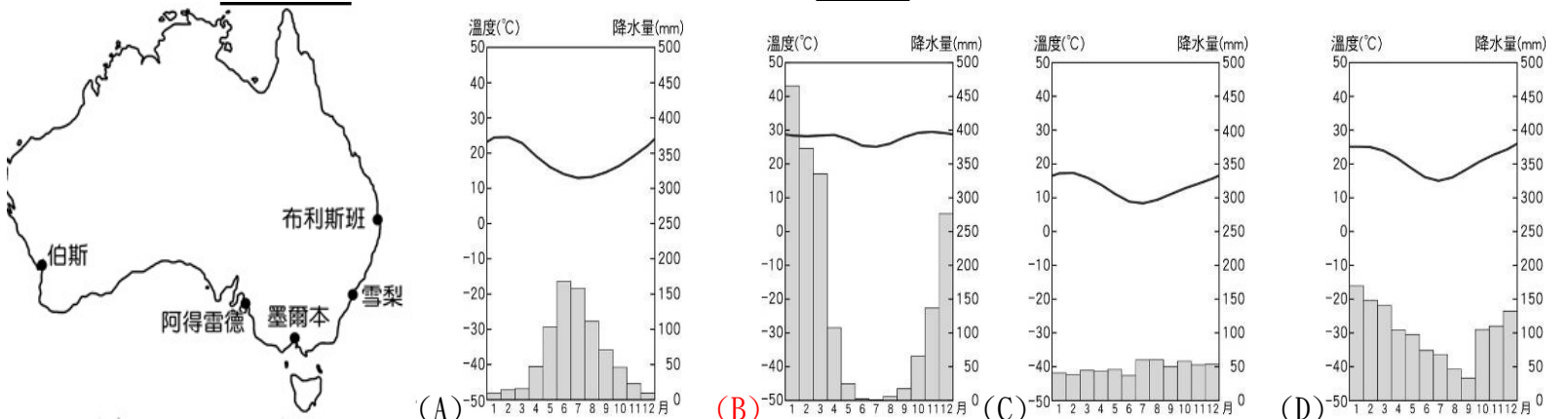
22. () 玻里尼西亞島群中，有部分島嶼屬於高島的性質，面積較大，地勢較高，土壤較肥沃，較適宜農業發展。請問：上述類別的島嶼成因主要包括下列哪一項？ (A)珊瑚礁為構成主體 (B)火山作用形成 (C)河川沖積而成 (D)海平面下降或陸地上升而形成。
23. () 好萊塢電影明星巨石強森本身有薩摩亞的血統，經常在電影中納入自己的文化特色。他在電影《玩命關頭8》中大跳「哈卡舞」，這種舞蹈緣起於玻里尼西亞，是一種動作、拍打配以叫嚷和哼聲的團體舞蹈，包括在紐西蘭、薩摩亞等地都很有名。請問：以上流行「哈卡舞」的地區在地理環境上具有以下哪一項特徵？ (A)為分布在大西洋上的島嶼 (B)地處年溫差大的氣候帶 (C)為南島語族的分布地 (D)當地產業多以重工業為主。
24. () 穆斯林於齋戒月期間的每日太陽升起至日落間禁止飲食、抽菸及口出穢言，此規範的主要目的是提升個人的修養與自制力。請問：若某年的齋戒月是6月至7月間，附圖中何地的穆斯林禁食時間最短？(A)甲(B)乙(C)丙(D)丁。



25. () 某一海域被歐、亞、北美三洲環繞，如果要從亞洲的日本飛往歐洲的瑞典，往西北方向飛行橫越此海域，可縮短飛航距離，節省時間，降低飛航成本。請問：此海域位於下列何處？ (A)赤道區 (B)南極區 (C)大洋洲 (D)北極區。
26. () 附圖為澳洲簡圖。若曉明由X地往Y地直線旅行，沿途最不可能遇到何種氣候類型？ (A)熱帶莽原氣候 (B)夏雨型暖溫帶氣候 (C)熱帶沙漠氣候 (D)溫帶地中海型氣候。



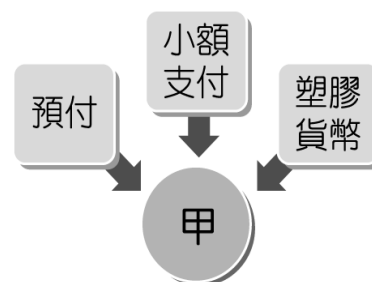
27. () 附圖為澳洲五大都市分布圖。請問：此五大都市的氣候類型不包括下列何者？



28. () 地表各地因經度的差異，而有時區的變化。請問：下列哪一個地區的日期最可能與其他三者不同？ (A) 密克羅尼西亞 (B) 美拉尼西亞 (C) 玻里尼西亞 (D) 澳大利亞。
29. () 紐西蘭自然資源豐富，若政府要開發綠色能源，下列何者較不具優勢？ (A) 水力 (B) 地熱 (C) 風力 (D) 太陽能。
30. () 西元 2016 年 2 月，來自大洋洲某國的泰提歐塔(Ioane Teitiota)向聯合國人權委員會提起申訴，因為紐西蘭政府拒絕他以「氣候難民」的身分尋求庇護。2020 年 1 月，聯合國宣布：氣候變遷將嚴重威脅個人的生命權，因此要求決策者在驅逐任何人時，皆須考量氣候危機的影響。請問：泰提歐塔最有可能是來自下列哪一個國家的人民？ (A) 吉里巴斯 (B) 加拿大 (C) 澳大利亞 (D) 俄羅斯。
31. () 「夏末初秋，海豹待在海中的時間較長，北極熊缺少停靠的地點，增加其捕獵的難度，造成食物供應量極度短缺，再加上人們挖掘原油破壞棲息地，導致北極熊互相殘殺的現象愈來愈頻繁。」請問：此一現象的形成與下列哪一項環境變遷的關係最密切？ (A) 環太平洋地震帶的範圍擴大 (B) 全球均溫上升導致冰層融化 (C) 大氣層的臭氧含量逐漸減少 (D) 土地沙漠化的現象向北擴張。
32. () 帥氣幽默的地理老師請同學利用一句話，來呈現澳洲與紐西蘭自獨立後迄今的經貿往來變遷，下列哪一位同學的說法最正確？ (A) 品權：脫美入亞 (B) 芄妘：脫歐入亞 (C) 芊雅：脫亞入歐 (D) 智強：脫美入歐。
33. () 為減低溫室氣體的排放，減緩氣候變遷所帶來的全球性衝擊，國際間相繼簽署環保協定，期望透過法律規範，減緩對地球環境的傷害，下列有關已簽署的環保協定何者正確？ (A) 《巴黎協定》比《京都議定書》更早簽署，目的為訂定明確的溫室氣體減排目標 (B) 《巴黎協定》的具體內容為將全球升溫幅度控制在一定範圍內，以遏止全球暖化 (C) 《京都議定書》是由眾多聯合國的成員國，在法國簽署 (D) 《京都議定書》於西元 2015 年簽署，並訂於西元 2020 年開始實施。
34. () 西元 2022 年，巴基斯坦遭受巨大的氣候災難，從創紀錄的熱浪到破壞性的洪水，使其付出了沉重的代價。根據歐洲航太局(ESA)的衛星圖像顯示，受到季風降下暴雨的影響，巴基斯坦自 6 月到 9 月間，有三分之一以上的地區出現洪水肆虐的災情，是該國有史以來最嚴重的水患，造成糧食短缺與健康威脅的雙重人道危機。請問：文中提及的暴雨與下列何者的關係最密切？ (A) 來自印度洋的西南季風 (B) 來自太平洋的西南季風 (C) 來自印度洋的東北季風 (D) 來自太平洋的東北季風。
35. () 甲國的國際貿易進、出口與我國現況類似，由於該國長期處於經濟景氣低迷的情況，因此甲國政府強力主導該國貨幣貶值，冀望能藉此刺激國家經濟發展，進而帶動景氣復甦。上述甲國政府的作法，主要是期望產生下列何種效果？(A) 進口商品成本降低(B) 避免生產成本提高(C) 出口商品售價降低(D) 避免造成通貨膨脹
36. () 政府舉辦的座談會中，主持人開場白：「無論是在臺灣或西方先進國家，男女的性別薪資差異一直都是待改進的大問題，例如索尼影業遭駭事件，意外揭露好萊塢確實存在著『男女同工不同酬』的問題，這也讓許多女演員紛紛站出來發聲，試圖扭轉電影圈長存的潛規則……。」請問：下列何者最可能是這場座談會的主題？ (A) 職場性騷擾防治 (B) 改善就業歧視的職場環境 (C) 提升職場的安全衛生 (D) 如何保障童工基本權益。
37. () 國中畢業多年後舉辦同學會，右圖是幾位同學分享了最近在做的事情。請問：哪一位同學提供了無酬勞動？(A) 小公 (B) 小民 (C) 小雨 (D) 小赦。

小公	我準備到英國攻讀博士班。
小民	我考到職業大客車駕照，在當公車司機。
小雨	我回母校當健康教育科老師。
小赦	我結婚後辭掉工作在家顧小孩。

38. () 小會課後複習公民課文內容，自行繪製如附圖的關鍵字重點整理。請問：圖中「甲」處應填入下列何者？ (A) 信用卡的特性 (B) 貨幣的演變 (C) 法定貨幣的功能 (D) 儲值卡的特性。



39. () 我國歌手 J 去某小島表演，唱一首歌得到了 3 隻豬、23 隻火雞、44 隻鴨，還有不計其數的各類水果。若以我國的物價計算，這是他平常報酬的三倍；但是他無法把這些報酬換成任何形式的貨幣。在停留期間，他必須拿部分水果來餵豬、餵雞，眼看著他的報酬逐日減少，而且他也只能就地消費，無法把這些報酬帶回家鄉。有關歌手 J 獲得此報酬的敘述，下列何者正確？(A) 此報酬有價值儲藏的功能(B) 此報酬具有日後增值的特性(C) 歌手 J 是用以物易物的方式進行交易 (D) 此報酬屬於商品貨幣。
40. () 立法院曾舉行公聽會，討論當新臺幣兌換美金匯率持續攀升時，中央銀行積極介入市場，試圖阻止新臺幣升值的行為是否適當。因我國是出口導向的經濟型態，故多數立委贊成中央銀行介入匯市，但也有少數立委持反對意見。上述中央銀行入場干預的行為，目的應是下列何者？(A) 維持幣值的穩定(B) 降低進口品價格(C) 推動產業的升級(D) 帶動金融業發展。

41. () 小孫想購買日本網站上一組 2,000 日圓的模型玩具，因此很努力的存錢，然後拜託日本的親戚幫忙購買。請根據附表判斷，若小孫在今年 10 月時購買，會比去年 10 月時購買多付或少付新臺幣多少錢？(A) 多付約 80 元 (B) 少付約 80 元 (C) 多付約 89 元 (D) 少付約 89 元。

年度	新臺幣：日圓
去年 10 月	1:2.8
今年 10 月	1:3.2

42. () 2010 年，一位日本人做了一個「比特幣」實驗，在電腦程式中放置固定數量的比特幣，利用虛擬帳本記錄交易。目前全球有許多協助建立帳本的人，這些人被稱為「礦工」，他們的電腦稱為「礦機」，彼此間的帳本互相流通。即不管在何處使用比特幣，只要有變動，電腦會互傳資料更新帳本。消費者只需要用手機或電腦 APP 就可以使用比特幣來支付，只是帳本更新需要時間，會有交易速度緩慢和額外支付手續費的問題，不適合小額支付。而且比特幣不是商品貨幣，本身不具有價值，其價值取決於資料處理的速度和大眾願意花多少代價購買來做為交易的工具。根據上文內容，下列敘述何者正確？(A) 比特幣是中央銀行設計出的貨幣 (B) 比特幣可以透過行動支付來操作 (C) 比特幣是由礦區的特殊礦物製成 (D) 比特幣和儲值卡皆利於小額支付
43. () 我國的各項產業都非常仰賴國際貿易，因此匯率的變動對我國的進出口都會有所影響。假設某年 1 美金可兌換新臺幣 33 元，請問：若我國出口一臺售價新臺幣 33,000 元的筆記型電腦到美國，則一臺筆記型電腦在美國的售價為多少美金？ (A) 1,000 美金 (B) 1,100 美金 (C) 10,000 美金 (D) 11,000 美金。
44. () 承上題，假使 1 臺定價 1,000 美金的自行車，我國廠商需出貨 1,000 臺，而新臺幣升值為 1 美金可兌換新臺幣 30 元後，將比之前 1 美金兌換新臺幣 33 元時多賺或少賺多少新臺幣？(A) 多賺 3,000 元 (B) 少賺 3,000 元 (C) 多賺 3,000,000 元 (D) 少賺 3,000,000 元。
45. () 臺灣家事移工多由女性擔任，當時我國基本工資為每月 26,400 元，但家事移工每月薪資僅有新臺幣 20,000 元，民間團體呼籲訂定「家事服務法」，以保障其勞動條件。勞動部發布新聞稿表示，受僱於個人的家事勞工，因工作型態、工作時間、休息時間與受僱於事業單位勞工明顯不同，無法適用【甲】。因家事勞工工作場所主要於家庭內，工作時間與休息時間不易釐清，且各界對於相關規範內容難有具體共識，推動專法也有困難。請問：上文甲為下列哪一部法律？ (A) 《勞動基準法》 (B) 《勞工職業災害保險及保護法》 (C) 《性別工作平等法》 (D) 《就業保險法》。
46. () 交通部觀光局邀請日本知名藝人為臺灣拍攝觀光宣傳影片，以吸引日本人來臺旅遊，但在宣傳活動的某段期間，因匯率劇烈波動，反而導致當時日本人來臺旅遊人次呈現負成長。上述觀光局作法所希望影響的消費行為因素，與該段期間匯率變化的情況，最可能為下列何項組合？【106 教育會考】(A) 預期心理、新臺幣相對日幣升值 (B) 預期心理、新臺幣相對日幣貶值 (C) 個人偏好、新臺幣相對日幣升值 (D) 個人偏好、新臺幣相對日幣貶值
47. () 下表是甲、乙兩國匯率變動的情形，以吸引乙國遊客為主的甲國觀光業者，看到此變化後感到很憂心。根據表中內容判斷，若甲國的物價水準維持不變，下列何者最可能是上述業者的憂慮？【109 教育會考】(A) 甲國觀光業者經營成本提高 (B) 乙國人到甲國旅遊意願下降 (C) 甲國觀光業者數量大幅增加 (D) 乙國人的平均薪資所得減少

時間	1 甲幣可兌換的乙幣
去年	10
今年	20

48. () 周小姐到書店購買雜誌，雜誌封面上標示著〈定價 120 元〉。上述標示呈現貨幣的哪一項功能？ (A) 價值儲存 (B) 債務清償 (C) 價值衡量 (D) 交易媒介。
49. () 政府立法保障勞動權益，讓勞動者都有機會透過工作賺取收入並獲得合理保障，才能享有勞動尊嚴，保障人民生活。請問：下列何者不屬於勞動尊嚴的保障？(A) 雇主要求勞工超時加班 (B) 雇主要求工作環境安全 (C) 失業者去申請職業培訓 (D) 勞工要求獲得合理報酬。
50. () 某法規範：人民之生存權、工作權及財產權，應予保障。該法所保障的工作權有兩種涵義，一是要求國家提供適當工作機會，惟並非指人民有權要求國家提供某一項工作的權利，某法僅要求國家盡量改善工作環境，盡量使人民有工作機會；另一則是人民有自由選擇工作之權，也就是職業選擇自由，人民得依其自身的能力、體力、環境的適應力，來選擇適當的工作。上文中的某法為何？(A) 《民法》(B) 《憲法》(C) 《就業保險法》(D) 《勞動基準法》。