

高雄市立蚵寮國民中學112學年度第二學期第一次定期評量八年級社會科試卷

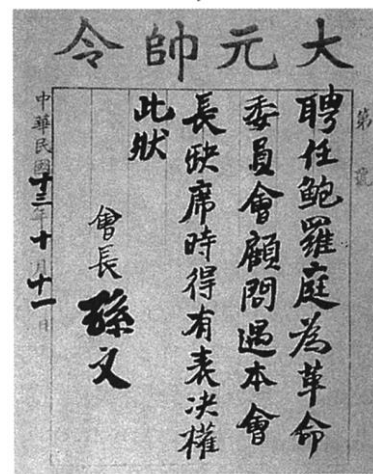
版本:康軒

範圍(L1~L2)

八年 班 座號： 姓名：

一、選擇

- () 右圖是民國八年五四運動漫畫的情景，由漫畫中的內容可知，引發此次抗議行動的原因為何？ (A)抗議帝制復辟 (B)力爭山東主權 (C)倡議二次革命 (D)抗議臺灣割日。
- () 陳獨秀是中國共產黨第一任總書記，曾經於西元 1915 年於上海創立一本雜誌，找來胡適與魯迅等人共同編輯，提倡中國要進行思想革命，在新文化運動的推動中具有重大的影響力。請問：該雜誌的內容主題較有可能是下列何者？ (A)介紹西方新思潮 (B)復興中國傳統文化 (C)倡導民族自強 (D)提倡三民主義救中國。
- () 民國元年元旦，響應辛亥革命的各省代表在南京組織中華民國臨時政府，而當時所選出的第一任臨時大總統是下列何者？ (A)袁世凱 (B)孫中山 (C)宋教仁 (D)黎元洪。
- () 清末的革命行動一波又一波，其中武昌起義之所以可以一舉成功推翻滿清政府，是因為剛好遇上什麼樣的時機？ (A)義和團進攻北京城 (B)四川爆發保路風潮 (C)清日爆發甲午戰爭 (D)八國聯軍圍剿滿清政府。
- () 右圖是民國 13 年間的一份聘任文件，由文件的內容可知孫文聘任俄人鮑羅庭為革命委員會的顧問。請問：此文件代表了什麼意義？ (A)中國共產黨在俄國共產黨協助下成立 (B)黃埔軍校的設立 (C)聯俄容共政策的推動 (D)新式海、陸軍隊的編練。
- () 民國 6 年至 12 年之間，孫中山號召護法運動，此運動是因何人毀棄《臨時約法》而發起的？ (A)袁世凱 (B)張勳 (C)段祺瑞 (D)黎元洪。
- () 由於中國共產黨採取既聯合又鬥爭的策略，利用群眾運動奪權，因此蔣中正不得不實行反共清黨。請問：這正值國民黨哪個時期？ (A)二次革命 (B)北伐時期 (C)護法運動 (D)辛亥革命。
- () 柯吉霸正在閱讀一些資料，包括胡適的〈文學改良芻議〉、魯迅的《阿 Q 正傳》與《狂人日記》等小說。請問：柯吉霸可能正在了解下列哪個時期的文學發展？ (A)新文化運動時期的白話文運動 (B)中華帝國時期的洪憲帝制 (C)護法運動時的南北分裂 (D)二次革命時期的號召討袁。
- () 下列為中華民國從建國起陸續發生的重大事件：(甲)國民黨發動二次革命 (乙)宋教仁被暗殺 (丙)張勳復辟 (丁)袁世凱稱帝 (戊)袁世凱廢除《臨時約法》。若依事件發生的先後順序排列，何者正確？ (A)甲乙丙丁戊 (B)乙甲丁戊丙 (C)乙甲戊丁丙 (D)戊丁丙乙甲。
- () 2011 年，中國為紀念辛亥革命一百週年，籌拍製映了同名電影《辛亥革命》。關於這場革命，下列敘述何者正確？ (A)來自康有為等人的鼓吹成功 (B)趁保路運動揭開革命的序幕 (C)袁世凱被推選為臨時大總統 (D)革命獲得全國響應成功建國。
- () 近代中國社會邁向現代化的過程中，經過多次的變革，其變革層面依序為何？ (A)器物→思想→制度 (B)思想→制度→器物 (C)器物→制度→思想 (D)制度→器物→思想。
- () 五四運動時期，以兒童本位作為兒童文學的出發點，開啟了中國現代兒童文學的歷程。兒童文學的要點是要順應滿足兒童本能的興趣，再來是培養並指導那些興趣，以及喚起新的興趣。請問這時期的兒童教育著重的目標是什麼？ (A)強調背誦的能力 (B)教導兒童長大後需要的處事能力 (C)重視兒童的生活經驗和興趣 (D)強調兒童對傳統儒家經典的理解能力。
- () 西元 1918 年，易卜生《玩偶之家》的劇本在中國社會引起巨大效應，有一段丈夫郝爾茂與妻子娜拉的經典對話如下：
玲芬：你以為我的最神聖的責任是什麼？
吉霸：還等我說嗎？可不是你對於你的丈夫和你的兒女的責任嗎？
玲芬：我還有別的責任同這些一樣的神聖。
吉霸：沒有的。你且說，那些責任是什麼？
玲芬：是我對於我自己的責任。
請問這份劇本主題所引起的效應，下列何者較為可能？ (A)為國家主權發聲 (B)對傳統文化的挑戰 (C)白話文取代文言文 (D)共產主義的理想。
- () 真真看到一個團體的宣傳單，如附圖所示。請問：這最可能是哪個團體所發的宣傳單？ (A)義和團 (B)同盟會 (C)耶穌會 (D)皇族內閣。
- () 一位政治人物曾說：「孫中山先生畢生的遺憾，便是未能解決各地軍閥肆虐的問題，如今唯有用武力統一各方分裂勢力。為貫徹此主張，我只好誓師北伐掃除各地軍閥割據……。」這最有可能是下列何人的言論？ (A)黎元洪 (B)袁世凱 (C)段祺瑞 (D)蔣中正。
- () 袁世凱就任臨時大總統一職，受到《中華民國臨時約法》的限制，此法由臨時參



各位同志：
清朝政府就像腐朽的木頭一般，如果不將腐朽的木頭丟棄，則國家的命運便無法改變，因此，「推翻滿清，恢復中華」是我們共同的使命。

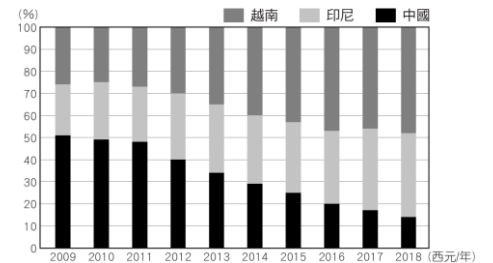
議院制定，為國家行憲前的根本大法。請問：《臨時約法》採取哪種制度以避免袁世凱濫權？ (A)總統制 (B)內閣制 (C)君主制 (D)君主立憲。

17. () 陳獨秀在《文學革命論》一文中提倡三大主義：「推倒雕琢的、阿諛的貴族文學；建設平易的、抒情的國民文學。推倒陳腐的、鋪張的古典文學；建設新鮮的、立誠的寫實文學。推倒迂腐的、艱澀的山林文學；建設明瞭的、通俗的社會文學。」請問：下列敘述何者錯誤？ (A)此文可能刊載於《新青年》雜誌中 (B)此文發表於新文化運動時期 (C)陳獨秀支持白話文運動 (D)陳獨秀著有《狂人日記》一書，諷刺傳統社會。

18. () 帥氣幽默的地理老師課堂中提到：「美國的軟體公司接下訂單時，可在公司下班後，將設計工作交由遠在印度的分公司著手進行；而印度分公司於下班後，再將設計成果傳回美國公司，如此往返進行，便可在較少的工作天，完成產品的研發設計。」請問：美國軟體公司選擇在印度設立分公司的原因，不包括下列何者？

- (A)小翊：經度差距
(B)小鈞：工資低廉
(C)小真：緯度相近
(D)小帥：數理優勢。

19. () 右圖是臺灣寶成企業投資三個國家的製鞋生產線比例變化，四位同學就此圖提出自己的看法，何者最為正確？ (A)雪晴：企業投資中國投資的比重逐年上升 (B)紘滄：企業對中國的依賴逐年漸減 (C)禾佳：企業每年的獲利大致穩定 (D)承睿：企業逐漸減少東南亞國家的投資比例。



20. () 子婷想要研究「熱帶栽培業對於各國經濟發展之影響」，下列哪一組國家不應出現在她的報告中？ (A)日本、南韓 (B)越南、緬甸 (C)馬來西亞、泰國 (D)菲律賓、印尼。

21. () 邦加羅爾有「印度矽谷」之稱，其所在的位置(12°N, 77°E)，可與美國舊金山(37°N, 122°W)的公司連結成一個 24 小時不間斷工作的地理環境優勢。請問：邦加羅爾與舊金山之間的時差有幾個小時？ (A)10 小時 (B)11 小時 (C)12 小時 (D)13 小時。

22. () 宗教不僅是人們的精神寄託，甚至可能影響當地的生活。請問：下列各國宗教影響其生活方式之敘述，何者正確？ (A)越南主要信仰佛教，教徒被要求一定要吃素 (B)泰國篤信印度教，泰王規範嚴格的階級制度 (C)印尼多為基督徒，每週日都要上教堂做禮拜 (D)馬來西亞穆斯林人口眾多，女子常包著頭巾。

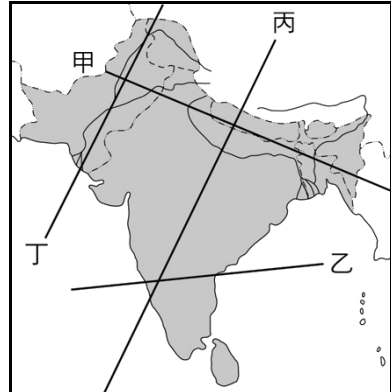
23. () 近年來，有許多來自東南亞的移工到臺灣來工作，其中部分移工經常聚集在各地的伊斯蘭教清真寺做禮拜。這些在清真寺做禮拜的移工，最可能來自下列哪一個國家？ (A)緬甸 (B)越南 (C)印尼 (D)泰國。

24. () 印度近年來「為企業提供服務」的產業興起，其中軟體研發委外產業是發展最快的行業，自一九九〇年代以來，每年的增長速度高達 30% 以上。請問：印度的軟體研發委外業務最主要應來自下列哪一個國家？ (A)中國 (B)美國 (C)日本 (D)泰國。

25. () 位於歐亞大陸南端的印度半島，氣候類型隨各季節的特色而產生變化，因而對當地居民的生活影響甚大。請問：該地區的降雨主要來自於下列哪一個季風風向所帶來的大量水氣？



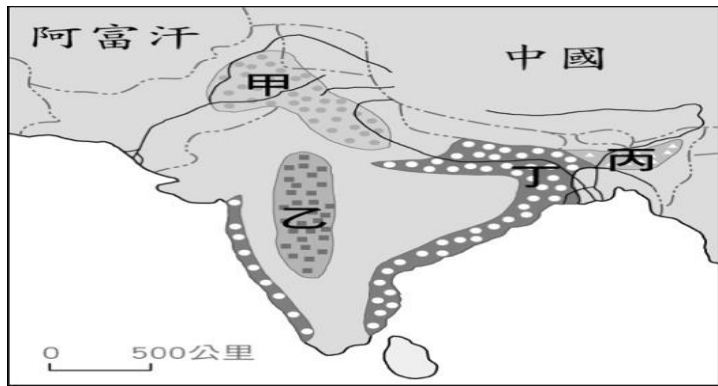
26. () 印度半島可分為三大地形區，附圖中哪一個剖線正好可通過此三大地形區？ (A)甲 (B)乙 (C)丙 (D)丁。



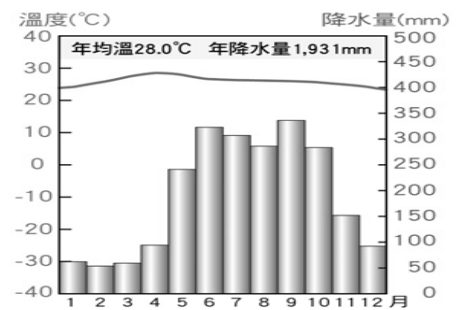
27. () 柏鑫寒假時至某國旅遊，在當地看到眾多人民篤信佛教，在有「萬塔之城」美譽的古都遊覽，數千座中世紀佛塔的風光在他的腦海中印下深刻的記憶。請問：齊齊最有可能前往哪一個國家旅遊？ (A)緬甸 (B)菲律賓 (C)孟加拉 (D)印尼。

28. () 東南亞的人口多集中在幾個發展比較好的大都市，如菲律賓的馬尼拉人口有 1,290 萬人、印尼的雅加達有 1,030 萬人、越南的胡志明市 730 萬人等。請問：造成上述現象的主要原因為何？ (A)政府強制人民移民至沿海地區 (B)殖民時期重視港口建設以利出口 (C)內陸沙漠氣候致使人口數稀少 (D)盆地地形氣候悶熱使人口較少。

29. () 附圖為南亞農產分布簡圖，圖中各區與主要種植的作物配對，何者正確？ (A)甲——稻米 (B)乙——棉花 (C)丙——小麥 (D)丁——茶葉。



30. () 東南亞脫離西方殖民帝國統治後，仍以出口農、礦產品等原物料作為經濟發展的主力，但貿易利潤微薄，經濟發展陷入困境。請問：產生此現象的主要原因為何？(甲)缺乏資金與技術，產量難以大幅提升(乙)礦產開發技術多操控在東南亞國家本身(丙)原物料價格受國際市場影響極大(丁)勞力薪資提升，成本提高 (A)甲乙 (B)甲丙 (C)甲丁 (D)丙丁。
31. () 「東協」是東南亞國家協會的簡稱。請問：下列哪一個東南亞國家沒有加入此組織？(A)汶萊 (B)越南 (C)緬甸 (D)東帝汶。
32. () 南亞的恆河平原與中國的鄱陽盆地緯度相當，但鄱陽盆地一月均溫卻比恆河平原低了近 10°C。請問：造成此差異的原因，與恆河平原具備哪一項特性有關？(A)午後多雷陣雨 (B)太陽輻射較強 (C)北有高山屏障 (D)境內湖泊眾多。
33. () 子玄一家人想到印度旅遊，不知道何時去比較適合，以下是同學們給的意見，何者正確？(A)健瑜：11 月去最好，因為天氣涼爽 (B)政揚：要 5 月去，因為是春天，氣候溫和 (C)芸婷：1 月最好不要去，印度氣候很寒冷 (D)沛昀：3~5 月是雨季不要去
34. () 右圖為東南亞某城市的氣候圖，該城市的雨季一般在每年 5~10 月，乾季在 11~4 月左右，最舒服的氣候則是在 12~2 月的涼爽乾季。雨季每天都會有陣雨，很快便會再放晴。根據推論該城市最不可能有下列氣候特色？(A)此區受大範圍海陸性質影響 (B)降雨特色與臺灣南部一致 (C)緯度低年溫差小 (D)剛好有赤道通過。
35. () 立法院於 2020/2/25 三讀通過《嚴重特殊傳染性肺炎防治及紓困振興特別條例》，制定目的是為防堵武漢肺炎疫情蔓延，持續提升各項防疫作為、充實所需設備與物資，並對受影響而發生營運困難的產業，提供相關紓困及振興措施，以降低其損失，協助產業復甦。請問：上述提及的法律與下列何者的位階一樣？(A)《中華民國憲法增修條文》(B)《國民教育法施行細則》(C)《地方稅法通則》(D)《噪音管制標準》
36. () 「一名婦人搭捷運時，因不滿女學生在博愛座上未讓座，在臉書發文批評，連帶引發社會上對於博愛座存廢的討論。然而目前各種大眾運輸工具上的博愛座，都是根據《身心障礙者權益保障法》與《大眾運輸工具無障礙設施設置辦法》設置。」請問上述報導提及之《身心障礙者權益保障法》與《大眾運輸工具無障礙設施設置辦法》兩者的比較，下列說明何者正確？(A)兩者都是由立法院三讀通過後，由總統公布的法律(B)前者為後者補充性的細部規定，使後者能具體實踐(C)兩者都是由行政機關基於職權，所發布的行政命令(D)後者之規範內容不可牴觸前者，如有牴觸則為無效
37. () 我國法律因位階不同，而有不同的制定與修正方式。右圖中品冠所提到的法律，其制定過程應包含下列何者？(A)立法院制定、修正(B)公告半年(C)公民投票複決(D)行政院提案
38. () 「平埔族在聯合國世界原住民日當天，於凱達格蘭大道聚集，向總統請願，訴求立即返還平埔族原住民身分認定。」請問：人民向政府請願的權利，與下列哪個選項的性質相同？(A)小宇決定參選今年的地方縣市長選舉，為民服務。(B)學校給予小剛特殊考場服務，讓他順利的完成考試。(C)小莉具有身體自主權的意識，所以很愛惜自己。(D)小福正在享受憲法所規範的國民教育權利。
39. () 新聞報導：15 歲的小君自行跑到住家巷口的超商，將上萬元壓歲錢全數用來購買高額遊戲點數，事後小君的父親前往超商要求退款，認為超商未盡到把關責任。超商店長表示，小君購買點數時聲稱已獲得家長同意，所以才將商品販賣給他，對於小君父親的要求雖然感到相當無奈，但仍願意退款。關於上述消費爭議事件，下列何項說法最合理？(A)買賣契約經雙方當事人同意即生效，超商店長無須退款(B)法律規範限制契約自由，是為了保護限制行為能力人的權益(C)店家依法不得販售該商品給未成年人，店家應退款負責(D)小君購買任何商品皆須得到法定代理人同意，才能避免爭議
40. () 日常生活中人們無法自給自足滿足自己生活所需，通常會通過買賣租賃及借貸等契約行為來滿足其需求。天天在社群網站分享一則訊息如下：「我打電話向這間網路商店訂購衣服，結果不僅出貨速度慢還有色差！我說要退貨，廠商竟然回覆，商品售出概不退換」。根據民法的契約規範，下列敘述何者正確？(A)屬於身分關係的契約行為 (B)雙



方為口頭承諾無書面契約，故契約不成立 (C)廠商的作法違反誠實信用原則 (D)廠商慢出貨的行為，屬於侵權行為。

41. ()11月26日為地方政府九合一選舉，此次選舉還綁了幾案公投。阿文與阿雄兩人打賭，阿文告訴阿雄說，如果公投結果大部分為同意，我就在街上裸奔。根據兩人的談話內容，這個契約是否具有效力? (A)有效，符合契約自由原則 (B)無效，違反善良風俗原則 (C)無效，違反法律規定原則 (D)有效，符合誠實信用原則
42. ()以下是幾位朋友聊到生活中訂定契約的經驗，下列何者的說法完全正確? (A)小公：我到百貨公司購買化妝品，需訂立書面契約交易才有效。(B)小民：我向房東租了兩年的套房，口頭契約也有效，不用書面契約也沒有關係。(C)小雨：我向一名屋主購買二手屋，付款完房屋所有權就是我的。(D)小惠：我今年元旦後已滿18歲可以結婚，不須法定代理人同意。
43. ()根據《民法》的相關規定，下列哪一種行為具有法律效力? (A)10歲的阿隆領取學校發的獎學金 (B)16歲的阿倫不顧父母反對申請信用卡 (C)5歲的小明到便利商店買零食糖果 (D)17歲的小香用自己存款買一臺機車。
44. ()方大明與房東簽訂租賃契約，入住後有拖欠租金及破壞沙發及牆壁的行為，依民法的規定各須承單的的民事責任，下列敘述何者正確? (A)拖欠租金的行為屬債務不履行，房東可以解除契約。(B)拖欠租金的行為屬侵權行為，須負損害賠償責任。(C)破壞沙發及弄髒牆壁屬於債務不履行，須負損害賠償責任。(D)破壞沙發及弄髒牆壁屬於侵權行為，房東可以解除約定。
45. ()承上題，假如方大明只有17歲，依據我國民法的規定，關於他們所簽訂的租賃契約的敘述，何者正確? (A)無效，他是無行為能力的人，須由法定代理人代為行使，行為才有效。(B)有效，他是完全行為能力人，依法律規定可獨立從事有效的法律行為。(C)效力未定，限制行為能力人所訂契約，須由法定代理人承認始生效力。(D)有效，他是限制行為能力人，因此可以獨立行使單純得到利益之行為。
46. ()《民法》中年齡與行為能力程度須分別承擔不同的責任。下列何者最可能與7歲以下的未成年人屬於相同程度的行為能力?(A)遭到宣告褫奪公權的胖虎(B)受到法院監護宣告的大雄(C)年邁80的老奶奶靜香(D)9歲意外失去雙親的巧夫
47. ()高中生卡卡要申請大學，必須具備志工服務時數，於是他和學校社團學生到海灘淨灘，為了取得志工服務證明，他向同學借了無人機拍攝。當天風速太大，導致操弄不佳，不慎將無人機摔落地面，造成無人機損壞。下列何者與卡卡所應承擔的「民事責任」相同? (A)在蝦皮網站販賣非正品A貨的奇奇 (B)你寄有儲值金的出租漫畫店老闆霏霏一夜之間消失(C)無法如期交付新車給顧客的老闆朱朱(D)跟同學打球不慎打破住戶玻璃窗戶的翔翔
48. ()右圖為我國廣義的法律位階示意圖，圖中灰色區塊所代表的法律類型，具有下列何項特色? (A)可由行政機關訂定 (B)必須經總統公布施行 (C)內容多為原則性的規範 (D)修改必須經公民投票複決
49. ()政府透過許多管道推動社會福利相關政策，例如：以公益彩券回饋金，協助經濟弱勢民眾繳納部分健保相關費用；放寬低收入戶審查門檻，協助經濟弱勢家庭獲得社會救助等。上述政府的二項作法，最主要是為了達成下列何項目的? (A)確保民眾財產權利(B)縮短城鄉發展差距 (C)保障人民生存權利 (D)推廣志工服務活動
50. ()考選部提醒，若考生在公務人員考試時舞弊，不僅五年內不能再報名考試，最重還可能被處一年有期徒刑，希望民眾不要以身試法。針對上述違法行為，下列何者屬於國家為了處罰違法者所限制的基本權利? (A)生存權 (B)人身自由 (C)表現自由 (D)工作權

